



OPERACIONES Y PROBLEMAS

Matemáticas

ÍNDICE

Tercero de Primaria

| | |
|-------------------|----|
| Operaciones | 5 |
| Problemas | 25 |

Cuarto de Primaria

| | |
|-------------------------|----|
| Operaciones | 53 |
| Problemas | 73 |
| Soluciones | 97 |



Operaciones y problemas Matemáticas es una obra colectiva, concebida, creada y realizada en el Departamento de Primaria de Santillana Educación, S. L., bajo la dirección de José Tomás Henao.

Ilustración: Javier Hernández y José María Valera

Textos: Arancha Méndez

Edición: Pilar García y Mar García

© 2008 by Santillana Educación, S. L.
Torrelaguna, 60. 28043 Madrid
PRINTED IN SPAIN
Impreso en España por

CP: 944005
Depósito legal:

El presente cuaderno está protegido por las leyes de derechos de autor y su propiedad intelectual le corresponde a Santillana. A los legítimos usuarios del mismo solo les está permitido realizar fotocopias de este material para su utilización como material de aula. Queda prohibido cualquier otro uso fuera de los permitidos, especialmente el que tenga fines comerciales.

3 PRIMARIA

Operaciones

| | | | | | |
|----------|---|----|----------|---|----|
| Ficha 1 | Suma de dos o tres sumandos, sin llevar y llevando | 5 | Ficha 11 | Sumas, restas y multiplicaciones | 15 |
| Ficha 2 | Propiedades asociativa y conmutativa | 6 | Ficha 12 | Sumas, restas y multiplicaciones | 16 |
| Ficha 3 | Restas sin llevar y llevando | 7 | Ficha 13 | Divisiones (inicio) | 17 |
| Ficha 4 | Restas y prueba de la resta | 8 | Ficha 14 | Divisiones (dividendo de 2 cifras y divisor de 1) | 18 |
| Ficha 5 | Sumas y restas | 9 | Ficha 15 | Divisiones (dividendo de hasta 3 cifras y divisor de 1) | 19 |
| Ficha 6 | Sumas y restas | 10 | Ficha 16 | Divisiones (dividendo de hasta 3 cifras y divisor de 1) | 20 |
| Ficha 7 | Sumas y restas | 11 | Ficha 17 | Divisiones (dividendo de hasta 3 cifras y divisor de 1) | 21 |
| Ficha 8 | Multiplicaciones sin llevar con números de hasta 4 cifras | 12 | Ficha 18 | Sumas, restas, multiplicaciones y divisiones | 22 |
| Ficha 9 | Multiplicaciones llevando con números de hasta 4 cifras | 13 | Ficha 19 | Sumas, restas, multiplicaciones y divisiones | 23 |
| Ficha 10 | Sumas, restas y multiplicaciones | 14 | Ficha 20 | Sumas, restas, multiplicaciones y divisiones | 24 |

Problemas

| | | | | | |
|----------|---|----|----------|--|----|
| Ficha 1 | Sumas llevando de dos sumandos | 25 | Ficha 16 | División (dividendo de 2 o 3 cifras y divisor de 1 cifra, la primera cifra mayor o igual que el divisor) | 40 |
| Ficha 2 | Sumas llevando de tres sumandos | 26 | Ficha 17 | División (dividendo de 2 o 3 cifras y divisor de 1 cifra, la primera cifra menor que el divisor) | 41 |
| Ficha 3 | Resta sin llevar con números de hasta 4 cifras | 27 | Ficha 18 | División (dividendo de 3 cifras y divisor de 1 cifra, con 0 en el cociente) | 42 |
| Ficha 4 | Restas llevando | 28 | Ficha 19 | División (dividendo de 3 cifras y divisor de 1 cifra, la primera cifra menor que el divisor) | 43 |
| Ficha 5 | Suma y resta | 29 | Ficha 20 | Problemas de 2 operaciones (suma y división/resta y división) | 44 |
| Ficha 6 | Suma y resta | 30 | Ficha 21 | Problemas de 2 operaciones (suma y resta/multiplicación y suma) | 45 |
| Ficha 7 | Multiplicación sin llevar | 31 | Ficha 22 | División (tercio). Problemas de 2 operaciones (suma y división) | 46 |
| Ficha 8 | Doble y triple | 32 | Ficha 23 | Longitud | 47 |
| Ficha 9 | Multiplicación llevando | 33 | Ficha 24 | Capacidad y masa | 48 |
| Ficha 10 | Problemas de 2 operaciones (suma y multiplicación/multiplicación y resta) | 34 | Ficha 25 | Tiempo | 49 |
| Ficha 11 | Problemas de 2 operaciones (multiplicación y resta/suma y multiplicación) | 35 | | | |
| Ficha 12 | Problemas de 2 operaciones (multiplicación y suma/multiplicación y resta) | 36 | | | |
| Ficha 13 | Multiplicación | 37 | | | |
| Ficha 14 | Repartos | 38 | | | |
| Ficha 15 | División (inicio) | 39 | | | |

Nombre _____ Fecha _____

• **Suma.**

$$\begin{array}{r} 72 \\ + 13 \\ \hline \end{array}$$

$$\begin{array}{r} 65 \\ + 28 \\ \hline \end{array}$$

$$\begin{array}{r} 35 \\ + 19 \\ \hline \end{array}$$

$$\begin{array}{r} 51 \\ + 23 \\ \hline \end{array}$$

$$\begin{array}{r} 44 \\ + 53 \\ \hline \end{array}$$

$$\begin{array}{r} 55 \\ 10 \\ + 12 \\ \hline \end{array}$$

$$\begin{array}{r} 70 \\ + 15 \\ \hline \end{array}$$

$$\begin{array}{r} 65 \\ + 23 \\ \hline \end{array}$$

$$\begin{array}{r} 41 \\ 26 \\ + 12 \\ \hline \end{array}$$

$$\begin{array}{r} 148 \\ 14 \\ + 20 \\ \hline \end{array}$$

$$\begin{array}{r} 37 \\ 25 \\ + 3 \\ \hline \end{array}$$

$$\begin{array}{r} 18 \\ 39 \\ + 10 \\ \hline \end{array}$$

• **Coloca y suma.**

$$30 + 23 + 5$$

$$27 + 38$$

$$32 + 3 + 41$$

$$25 + 14 + 12$$

$$71 + 9 + 8$$

$$22 + 17 + 63$$

• **Observa el ejemplo resuelto y escribe en forma de suma.**

$$2.457 = 2.000 + 400 + 50 + 7$$

$$3.428 = \underline{\quad} + \underline{\quad} + \underline{\quad} + \underline{\quad}$$

$$1.345 = \underline{\quad} + \underline{\quad} + \underline{\quad} + \underline{\quad}$$

Nombre _____ Fecha _____

- **Suma y comprueba que obtienes el mismo resultado.**

$$\begin{array}{r} 4817 \\ + 748 \\ \hline \end{array}$$

$$\begin{array}{r} 748 \\ + 4817 \\ \hline \end{array}$$

$$\begin{array}{r} 579 \\ + 215 \\ \hline \end{array}$$

$$\begin{array}{r} 215 \\ + 579 \\ \hline \end{array}$$

$$\begin{array}{r} 6843 \\ + 1232 \\ \hline \end{array}$$

$$\begin{array}{r} 1232 \\ + 6843 \\ \hline \end{array}$$

$$\begin{array}{r} 916 \\ + 647 \\ \hline \end{array}$$

$$\begin{array}{r} 647 \\ + 916 \\ \hline \end{array}$$

- **Suma y comprueba que obtienes el mismo resultado.**

$$452 + (65 + 10) = \underline{\hspace{2cm}}$$

$$1.827 + (173 + 570) = \underline{\hspace{2cm}}$$

$$(452 + 65) + 10 = \underline{\hspace{2cm}}$$

$$(1.827 + 173) + 570 = \underline{\hspace{2cm}}$$

$$545 + (143 + 71) = \underline{\hspace{2cm}}$$

$$242 + (692 + 184) = \underline{\hspace{2cm}}$$

$$(545 + 143) + 71 = \underline{\hspace{2cm}}$$

$$(242 + 692) + 184 = \underline{\hspace{2cm}}$$

- **Completa y calcula.**

$$784 + 369 = 369 + \underline{\hspace{1cm}} = \underline{\hspace{1cm}}$$

$$374 + 375 = \underline{\hspace{1cm}} + 374 = \underline{\hspace{1cm}}$$

$$925 + 309 = \underline{\hspace{1cm}} + 925 = \underline{\hspace{1cm}}$$

$$628 + 192 = 192 + \underline{\hspace{1cm}} = \underline{\hspace{1cm}}$$

- **Suma.**

$$(750 + 361) + 34 = \underline{\hspace{2cm}}$$

$$(1.116 + 110) + 25 = \underline{\hspace{2cm}}$$

$$750 + (361 + 34) = \underline{\hspace{2cm}}$$

$$1.116 + (110 + 25) = \underline{\hspace{2cm}}$$

$$(828 + 108) + 250 = \underline{\hspace{2cm}}$$

$$(237 + 309) + 394 = \underline{\hspace{2cm}}$$

$$828 + (108 + 250) = \underline{\hspace{2cm}}$$

$$237 + (309 + 394) = \underline{\hspace{2cm}}$$

Nombre _____ Fecha _____

• **Resta.**

$$\begin{array}{r} 62349 \\ - 4963 \\ \hline \end{array}$$

$$\begin{array}{r} 80123 \\ - 1478 \\ \hline \end{array}$$

$$\begin{array}{r} 41292 \\ - 9375 \\ \hline \end{array}$$

$$\begin{array}{r} 92120 \\ - 8753 \\ \hline \end{array}$$

$$\begin{array}{r} 76249 \\ - 14603 \\ \hline \end{array}$$

$$\begin{array}{r} 31927 \\ - 17962 \\ \hline \end{array}$$

$$\begin{array}{r} 50000 \\ - 6765 \\ \hline \end{array}$$

$$\begin{array}{r} 33540 \\ - 28963 \\ \hline \end{array}$$

• **Completa cada resta.**

$$421 - \boxed{} = 130$$

$$981 - \boxed{} = 187$$

$$752 - \boxed{} = 317$$

$$248 - \boxed{} = 63$$

$$534 - \boxed{} = 150$$

$$813 - \boxed{} = 162$$

• **Completa cada resta.**

$$\boxed{} - 258 = 369$$

$$\boxed{} - 170 = 464$$

$$\boxed{} - 124 = 89$$

$$\boxed{} - 377 = 192$$

$$\boxed{} - 187 = 169$$

$$\boxed{} - 389 = 257$$

• **Resta y haz la prueba.**

$$\begin{array}{r} 78435 \\ - 16302 \\ \hline \end{array} \blacktriangleright$$

$$\begin{array}{r} 8409 \\ - 1270 \\ \hline \end{array} \blacktriangleright$$

$$\begin{array}{r} 2325 \\ - 713 \\ \hline \end{array} \blacktriangleright$$

$$\begin{array}{r} 82629 \\ - 7232 \\ \hline \end{array} \blacktriangleright$$

Nombre _____ Fecha _____

• **Suma.**

$$\begin{array}{r} 18332 \\ 3825 \\ + 2235 \\ \hline \end{array}$$

$$\begin{array}{r} 12134 \\ 5764 \\ + 795 \\ \hline \end{array}$$

$$\begin{array}{r} 35004 \\ 13627 \\ + 72 \\ \hline \end{array}$$

$$\begin{array}{r} 76428 \\ 3720 \\ + 39 \\ \hline \end{array}$$

• **Resta.**

$$\begin{array}{r} 7418 \\ - 3046 \\ \hline \end{array}$$

$$\begin{array}{r} 6870 \\ - 2894 \\ \hline \end{array}$$

$$\begin{array}{r} 4527 \\ - 703 \\ \hline \end{array}$$

$$\begin{array}{r} 3000 \\ - 1560 \\ \hline \end{array}$$

$$\begin{array}{r} 4281 \\ - 2089 \\ \hline \end{array}$$

$$\begin{array}{r} 6856 \\ - 5026 \\ \hline \end{array}$$

$$\begin{array}{r} 4383 \\ - 947 \\ \hline \end{array}$$

$$\begin{array}{r} 3742 \\ - 1316 \\ \hline \end{array}$$

• **Coloca los números y calcula.**

$$8.432 + 24.615 + 484$$

$$9.729 + 42.636$$

$$54.976 + 5.384$$

$$34.000 - 12.700$$

$$56.900 - 9.280$$

$$73.500 - 999$$

• **Calcula.**

$$225 \xrightarrow{+ 150} \bigcirc \xrightarrow{- 50} \bigcirc \xrightarrow{+ 100} \bigcirc \xrightarrow{- 75} \bigcirc \xrightarrow{+ 75} \bigcirc$$

$$670 \xrightarrow{- 100} \bigcirc \xrightarrow{+ 400} \bigcirc \xrightarrow{- 150} \bigcirc \xrightarrow{+ 450} \bigcirc \xrightarrow{- 200} \bigcirc$$

Nombre _____ Fecha _____

• **Multiplica.**

$$\begin{array}{r} 285 \\ \times 2 \\ \hline \end{array}$$

$$\begin{array}{r} 471 \\ \times 5 \\ \hline \end{array}$$

$$\begin{array}{r} 272 \\ \times 2 \\ \hline \end{array}$$

$$\begin{array}{r} 421 \\ \times 4 \\ \hline \end{array}$$

$$\begin{array}{r} 363 \\ \times 8 \\ \hline \end{array}$$

$$\begin{array}{r} 574 \\ \times 7 \\ \hline \end{array}$$

$$\begin{array}{r} 193 \\ \times 6 \\ \hline \end{array}$$

$$\begin{array}{r} 253 \\ \times 9 \\ \hline \end{array}$$

• **Multiplica.**

$$\begin{array}{r} 3427 \\ \times 8 \\ \hline \end{array}$$

$$\begin{array}{r} 5626 \\ \times 2 \\ \hline \end{array}$$

$$\begin{array}{r} 9402 \\ \times 4 \\ \hline \end{array}$$

$$\begin{array}{r} 6724 \\ \times 7 \\ \hline \end{array}$$

$$\begin{array}{r} 8012 \\ \times 4 \\ \hline \end{array}$$

$$\begin{array}{r} 1634 \\ \times 9 \\ \hline \end{array}$$

$$\begin{array}{r} 3107 \\ \times 8 \\ \hline \end{array}$$




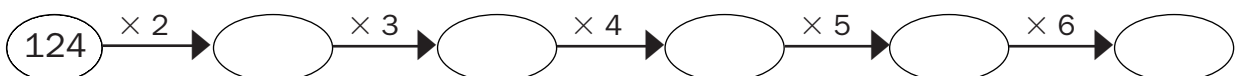
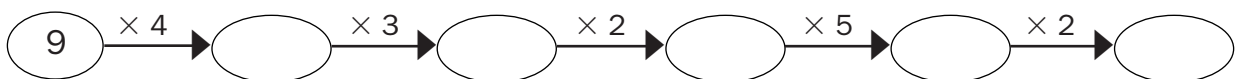
$$\begin{array}{r} 2316 \\ \times 5 \\ \hline \end{array}$$

• **Coloca y multiplica.**

$$452 \times 3$$

$$281 \times 5$$

$$392 \times 2$$

• **Calcula.**

Nombre _____ Fecha _____

• **Suma.**

$$\begin{array}{r} 473 \\ 186 \\ + 289 \\ \hline \end{array}$$

$$\begin{array}{r} 946 \\ 98 \\ + 697 \\ \hline \end{array}$$

$$\begin{array}{r} 83 \\ 597 \\ + 387 \\ \hline \end{array}$$

$$\begin{array}{r} 526 \\ 849 \\ + 797 \\ \hline \end{array}$$

• **Resta.**

$$\begin{array}{r} 6403 \\ - 206 \\ \hline \end{array}$$

$$\begin{array}{r} 7224 \\ - 305 \\ \hline \end{array}$$

$$\begin{array}{r} 8204 \\ - 197 \\ \hline \end{array}$$

$$\begin{array}{r} 4301 \\ - 509 \\ \hline \end{array}$$

• **Multiplica.**

$$\begin{array}{r} 432 \\ \times 4 \\ \hline \end{array}$$

$$\begin{array}{r} 564 \\ \times 6 \\ \hline \end{array}$$

$$\begin{array}{r} 1542 \\ \times 8 \\ \hline \end{array}$$

$$\begin{array}{r} 2357 \\ \times 9 \\ \hline \end{array}$$

• **Calcula.**

$2.492 + 5.678 = \underline{\hspace{2cm}}$

$6.024 - 3.819 = \underline{\hspace{2cm}}$

$1.592 - 759 = \underline{\hspace{2cm}}$

$7.100 - 985 = \underline{\hspace{2cm}}$

$4.926 + 7.296 = \underline{\hspace{2cm}}$

$725 + 6.854 = \underline{\hspace{2cm}}$

• **Multiplica.**

$12 \times 5 = \underline{\hspace{2cm}}$

$56 \times 5 = \underline{\hspace{2cm}}$

$68 \times 4 = \underline{\hspace{2cm}}$

$24 \times 3 = \underline{\hspace{2cm}}$

$42 \times 7 = \underline{\hspace{2cm}}$

$50 \times 2 = \underline{\hspace{2cm}}$

$31 \times 2 = \underline{\hspace{2cm}}$

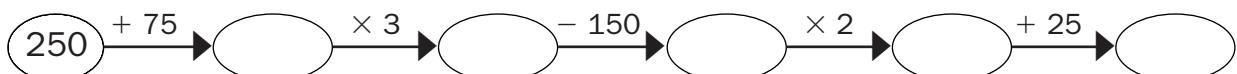
$85 \times 5 = \underline{\hspace{2cm}}$

$26 \times 6 = \underline{\hspace{2cm}}$

$93 \times 3 = \underline{\hspace{2cm}}$

$13 \times 9 = \underline{\hspace{2cm}}$

$21 \times 8 = \underline{\hspace{2cm}}$

• **Calcula.**

Nombre _____ Fecha _____

• **Calcula.**

$$\begin{array}{r} 4393 \\ 1787 \\ + 3648 \\ \hline \end{array}$$

$$\begin{array}{r} 3260 \\ - 899 \\ \hline \end{array}$$

$$\begin{array}{r} 8651 \\ 2499 \\ + 3614 \\ \hline \end{array}$$

$$\begin{array}{r} 5382 \\ - 1957 \\ \hline \end{array}$$

• **Multiplica.**

$$\begin{array}{r} 128 \\ \times 3 \\ \hline \end{array}$$

$$\begin{array}{r} 497 \\ \times 2 \\ \hline \end{array}$$

$$\begin{array}{r} 237 \\ \times 4 \\ \hline \end{array}$$

$$\begin{array}{r} 116 \\ \times 8 \\ \hline \end{array}$$

$$\begin{array}{r} 116 \\ \times 6 \\ \hline \end{array}$$

$$\begin{array}{r} 231 \\ \times 7 \\ \hline \end{array}$$

$$\begin{array}{r} 106 \\ \times 9 \\ \hline \end{array}$$

$$\begin{array}{r} 125 \\ \times 5 \\ \hline \end{array}$$

• **Completa.**

$$\begin{array}{r} \square \\ - 293 \\ \hline 281 \end{array}$$

$$\begin{array}{r} \square \\ - 347 \\ \hline 177 \end{array}$$

$$\begin{array}{r} \square \\ - 196 \\ \hline 438 \end{array}$$

$$\begin{array}{r} \square \\ - 798 \\ \hline 125 \end{array}$$

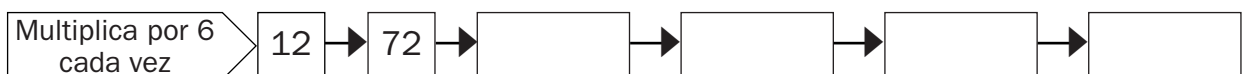
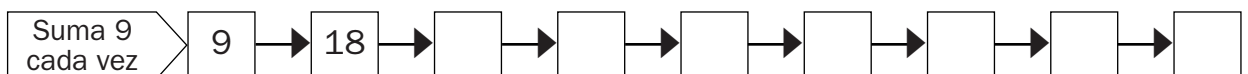
$$\begin{array}{r} 692 \\ - \square \\ \hline 567 \end{array}$$

$$\begin{array}{r} 431 \\ - \square \\ \hline 342 \end{array}$$

$$\begin{array}{r} 905 \\ - \square \\ \hline 625 \end{array}$$

$$\begin{array}{r} 281 \\ - \square \\ \hline 128 \end{array}$$

• **Calcula.**



Nombre _____ Fecha _____

• **Completa.**

| | | | |
|-------------------------|-------------------------|-------------------------|-------------------------|
| $3 \times \square = 15$ | $6 \times \square = 24$ | $5 \times \square = 20$ | $7 \times \square = 14$ |
| $3 \times \square = 9$ | $6 \times \square = 42$ | $5 \times \square = 35$ | $7 \times \square = 28$ |
| $3 \times \square = 18$ | $6 \times \square = 54$ | $5 \times \square = 40$ | $7 \times \square = 49$ |




• **Completa la tabla.**

| | 6 | 4 | 3 | 5 | 8 | 7 | 9 | 10 | 0 |
|------------|---|---|---|---|---|---|---|----|---|
| $\times 4$ | | | | | | | | | |
| $\times 6$ | | | | | | | | | |
| $\times 5$ | | | | | | | | | |
| $\times 7$ | | | | | | | | | |
| $\times 8$ | | | | | | | | | |
| $\times 2$ | | | | | | | | | |

• **Divide.**

| | | | |
|---------------------|---------------------|---------------------|---------------------|
| $12 \overline{) 6}$ | $27 \overline{) 3}$ | $72 \overline{) 8}$ | $54 \overline{) 9}$ |
| $49 \overline{) 7}$ | $32 \overline{) 4}$ | $18 \overline{) 2}$ | $40 \overline{) 5}$ |

• **Coloca y divide.**

| | | |
|---|--|---|
| $30 : 5$ | $36 : 4$ | $42 : 7$ |
|  |  |  |

Nombre _____ Fecha _____

• **Divide.**

$52 \overline{) 4}$

$72 \overline{) 6}$

$28 \overline{) 2}$

$88 \overline{) 8}$

$50 \overline{) 5}$

$84 \overline{) 7}$

$39 \overline{) 3}$

$75 \overline{) 5}$

$68 \overline{) 4}$

$96 \overline{) 8}$

$78 \overline{) 6}$

$91 \overline{) 7}$

• **Divide. Después, rodea las divisiones que sean exactas.**

$86 \overline{) 7}$

$49 \overline{) 3}$

$38 \overline{) 2}$

$47 \overline{) 4}$

$63 \overline{) 4}$

$56 \overline{) 3}$

$84 \overline{) 7}$




$96 \overline{) 2}$

• **Coloca y divide.**

$30 : 6$

$29 : 2$

$94 : 3$






Nombre _____ Fecha _____




• **Divide.**

| | | | |
|----------------------|----------------------|----------------------|----------------------|
| $606 \overline{) 6}$ | $910 \overline{) 3}$ | $803 \overline{) 4}$ | $524 \overline{) 5}$ |
| $611 \overline{) 2}$ | $242 \overline{) 3}$ | $722 \overline{) 8}$ | $124 \overline{) 6}$ |
| $210 \overline{) 3}$ | $564 \overline{) 7}$ | $403 \overline{) 2}$ | $903 \overline{) 5}$ |

• **Coloca y divide.**

| | | |
|---|---|---|
| $62 : 3$ | $83 : 4$ | $54 : 5$ |
|  |  |  |

• **Coloca, divide y haz la prueba.**

| | | |
|---|---|---|
| $327 : 6$ | $539 : 5$ | $407 : 9$ |
|  |  |  |

Nombre _____ Fecha _____

• **Divide.**

| | | | |
|----------------------|----------------------|----------------------|----------------------|
| $42 \overline{) 7}$ | $976 \overline{) 8}$ | $483 \overline{) 3}$ | $632 \overline{) 8}$ |
| $742 \overline{) 3}$ | $58 \overline{) 4}$ | $675 \overline{) 5}$ | $253 \overline{) 6}$ |
| $249 \overline{) 3}$ | $587 \overline{) 9}$ | $79 \overline{) 7}$ | $346 \overline{) 3}$ |
| $791 \overline{) 7}$ | $256 \overline{) 2}$ | $362 \overline{) 8}$ | $357 \overline{) 5}$ |

• **Busca el dividendo.**

$$\boxed{} \overline{) 3} \\ 35$$

Resto: 0

$$\boxed{} \overline{) 7} \\ 11$$

Resto: 2

$$\boxed{} \overline{) 5} \\ 13$$

Resto: 2

• **Completa.**

$$\boxed{448} \xrightarrow{:2} \boxed{} \xrightarrow{:2} \boxed{} \xrightarrow{:2} \boxed{} \xrightarrow{:2} \boxed{} \xrightarrow{:2} \boxed{} \xrightarrow{:2} \boxed{} \xrightarrow{:2} \boxed{}$$

$$\boxed{729} \xrightarrow{:3} \boxed{} \xrightarrow{:3} \boxed{} \xrightarrow{:3} \boxed{} \xrightarrow{:3} \boxed{} \xrightarrow{:3} \boxed{} \xrightarrow{:3} \boxed{}$$

$$\boxed{256} \xrightarrow{:4} \boxed{} \xrightarrow{:4} \boxed{} \xrightarrow{:4} \boxed{}$$

Nombre _____ Fecha _____

• **Suma.**

$$\begin{array}{r} 3421 \\ 659 \\ + 359 \\ \hline \end{array}$$

$$\begin{array}{r} 7321 \\ 2520 \\ + 293 \\ \hline \end{array}$$

$$\begin{array}{r} 1237 \\ 918 \\ + 1796 \\ \hline \end{array}$$

$$\begin{array}{r} 3456 \\ 873 \\ + 1237 \\ \hline \end{array}$$

• **Resta.**

$$\begin{array}{r} 1804 \\ - 713 \\ \hline \end{array}$$

$$\begin{array}{r} 3513 \\ - 1319 \\ \hline \end{array}$$

$$\begin{array}{r} 2176 \\ - 1781 \\ \hline \end{array}$$

$$\begin{array}{r} 5878 \\ - 2113 \\ \hline \end{array}$$

• **Multiplica.**

$$\begin{array}{r} 321 \\ \times 3 \\ \hline \end{array}$$

$$\begin{array}{r} 612 \\ \times 4 \\ \hline \end{array}$$

$$\begin{array}{r} 673 \\ \times 3 \\ \hline \end{array}$$

$$\begin{array}{r} 658 \\ \times 8 \\ \hline \end{array}$$

$$\begin{array}{r} 684 \\ \times 9 \\ \hline \end{array}$$

$$\begin{array}{r} 308 \\ \times 6 \\ \hline \end{array}$$

$$\begin{array}{r} 829 \\ \times 2 \\ \hline \end{array}$$

$$\begin{array}{r} 670 \\ \times 6 \\ \hline \end{array}$$

$$\begin{array}{r} 732 \\ \times 3 \\ \hline \end{array}$$

$$\begin{array}{r} 426 \\ \times 4 \\ \hline \end{array}$$

$$\begin{array}{r} 812 \\ \times 7 \\ \hline \end{array}$$

$$\begin{array}{r} 235 \\ \times 5 \\ \hline \end{array}$$

• **Divide.**

$$128 \overline{) 2}$$

$$439 \overline{) 3}$$

$$735 \overline{) 5}$$

$$924 \overline{) 7}$$

• **Completa.**

$$\boxed{812} \xrightarrow{+ 49} \boxed{} \xrightarrow{- 25} \boxed{} \xrightarrow{\times 2} \boxed{} \xrightarrow{: 4} \rightarrow \boxed{} \xrightarrow{+ 82} \boxed{}$$

Nombre _____ Fecha _____

• **Calcula.**

$$\begin{array}{r} 275 \\ 3908 \\ + 698 \\ \hline \end{array}$$

$$\begin{array}{r} 6506 \\ - 2794 \\ \hline \end{array}$$

$$\begin{array}{r} 8314 \\ - 7006 \\ \hline \end{array}$$

$$\begin{array}{r} 4765 \\ + 3921 \\ \hline \end{array}$$

• **Multiplica.**

$$\begin{array}{r} 217 \\ \times 4 \\ \hline \end{array}$$

$$\begin{array}{r} 571 \\ \times 6 \\ \hline \end{array}$$

$$\begin{array}{r} 209 \\ \times 7 \\ \hline \end{array}$$

$$\begin{array}{r} 423 \\ \times 3 \\ \hline \end{array}$$

$$\begin{array}{r} 498 \\ \times 2 \\ \hline \end{array}$$

$$\begin{array}{r} 234 \\ \times 9 \\ \hline \end{array}$$

$$\begin{array}{r} 379 \\ \times 8 \\ \hline \end{array}$$

$$\begin{array}{r} 637 \\ \times 5 \\ \hline \end{array}$$

• **Divide.**

$$45 \overline{)6}$$

$$61 \overline{)7}$$

$$70 \overline{)9}$$

$$47 \overline{)5}$$

$$48 \overline{)6}$$

$$72 \overline{)8}$$

$$49 \overline{)7}$$

$$54 \overline{)9}$$

• **Completa.**

$$24 \xrightarrow{\times 3} \square \xrightarrow{\times 4} \square \xrightarrow{:6} \square \xrightarrow{:4} \square \xrightarrow{\times 5} \square \xrightarrow{:6} \square$$

$$35 \xrightarrow{:5} \square \xrightarrow{\times 8} \square \xrightarrow{:2} \square \xrightarrow{:7} \square \xrightarrow{\times 4} \square \xrightarrow{:8} \square$$

Nombre _____ Fecha _____

Ana tiene una colección de 178 cromos de motos
y Javier tiene una colección de 245 cromos
de animales.

¿Cuántos cromos tienen en total?


1. Comprende.

Pregunta: _____

Datos: _____

2. Piensa qué hay que hacer.

- una suma.
 una multiplicación.
 una suma y una multiplicación.

3. Calcula.

Respuesta: _____

En la estantería del salón hay colocados 127 libros
de historia y 76 libros de cuentos.

¿Cuántos libros hay en la estantería?


1. Comprende.

Pregunta: _____

Datos: _____

2. Piensa qué hay que hacer.

- una suma.
 una multiplicación.
 una suma y una multiplicación.

3. Calcula.

Respuesta: _____

Nombre _____ Fecha _____

En el estadio de fútbol caben 12.780 personas.
 Se han vendido 8.990 entradas para el partido de hoy.
 ¿Cuántas entradas faltan por vender?

1. Comprende.


Pregunta: _____

Datos: _____

2. Piensa qué hay que hacer.

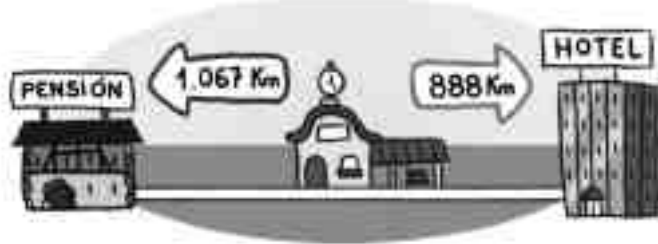
- una suma y una resta.
- una multiplicación.
- una resta.

3. Calcula.



Respuesta: _____

¿Cuántos kilómetros más hay que recorrer para llegar desde la estación hasta la pensión que desde la estación hasta el hotel?



1. Comprende.


Pregunta: _____

Datos: _____

2. Piensa qué hay que hacer.

- una suma.
- una resta.
- una multiplicación.

3. Calcula.



Respuesta: _____

Nombre _____ Fecha _____

Tomás está leyendo un libro de aventuras. Lleva leídas 88 páginas y le faltan por leer 136 páginas.
 ¿Cuántas páginas tiene el libro que se está leyendo Tomás?

1. Comprende.


Pregunta: _____

Datos: _____

2. Piensa qué hay que hacer.

- una suma.
- una resta.
- una suma y una resta.

3. Calcula.



Respuesta: _____

En el zoo están pesando a los animales.
 ¿Cuántos kilos pesa el tigre menos que el rinoceronte?



1. Comprende.


Pregunta: _____

Datos: _____

2. Piensa qué hay que hacer.

- una suma.
- una resta.
- una resta y una suma.

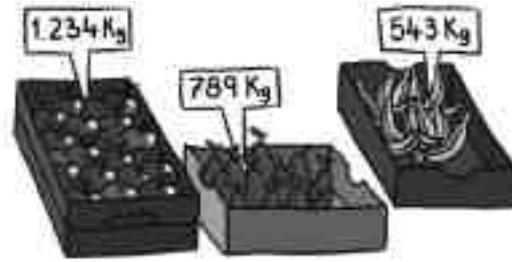
3. Calcula.



Respuesta: _____

Nombre _____ Fecha _____

Adrián ha comprado hoy 1 caja de manzanas, 1 caja de plátanos y 1 caja de peras. ¿Cuántos kilos de fruta ha comprado?



1. Comprende.


Pregunta: _____

Datos: _____

2. Piensa qué hay que hacer.

- una suma.
- una multiplicación.
- una suma y una multiplicación.

3. Calcula.



Respuesta:

Juan necesita un ordenador y una impresora que cuestan 4.532 €. Tiene ahorrados 3.200 €. ¿Cuánto dinero le falta para poder comprar el ordenador y la impresora?

1. Comprende.


Pregunta: _____

Datos: _____

2. Piensa qué hay que hacer.

- una suma.
- una resta.
- una suma y una resta.

3. Calcula.



Respuesta:

Nombre _____ Fecha _____

La madre de David ha acudido a un concurso de televisión y le han preguntado, ¿cuántos gramos de arroz hay en 6 sacos como este?


**1. Comprende.**

Pregunta: _____

Datos: _____

2. Piensa qué hay que hacer.

- una suma.
 una multiplicación.
 una suma y una multiplicación.

3. Calcula.

Respuesta:

Los tuaregs han llegado al mercado con 50 camellos cargados de mercancías. 5 camellos llevan 138 paquetes de dátiles cada uno. ¿Cuántos paquetes de dátiles llevan en total?


1. Comprende.

Pregunta: _____

Datos: _____

2. Piensa qué hay que hacer.

- una suma.
 una resta.
 una multiplicación.

3. Calcula.

Respuesta:

Nombre _____ Fecha _____

En el hotel donde están de vacaciones mis abuelos hay 73 mesas en el comedor y 34 en el jardín. Para cada una de las mesas hay 8 sillas. ¿Cuántas sillas tienen en total?

1. Comprende.


Pregunta: _____

Datos: _____

2. Piensa qué hay que hacer.


- una suma.
- una suma y una multiplicación.
- una resta y una multiplicación.

3. Calcula.



Respuesta: _____

Lucas ha comprado 2 cartones de huevos como este. Al colocarlos en el frigorífico se le han roto 7 huevos. ¿Cuántos huevos le quedan en el frigorífico?



1. Comprende.


Pregunta: _____

Datos: _____

2. Piensa qué hay que hacer.

- una suma y una resta.
- una multiplicación y una resta.
- una multiplicación.

3. Calcula.



Respuesta: _____

Nombre _____ Fecha _____

En un supermercado tienen que cambiar las ruedas de sus 129 carros. Ya han puesto 342 ruedas. ¿Cuántas ruedas les quedan por poner?


**1. Comprende.**

Pregunta: _____

Datos: _____

2. Piensa qué hay que hacer.

- una resta.
 una multiplicación y una resta.
 una suma y una multiplicación.

3. Calcula.

Respuesta: _____

A la escuela de cocina acuden cada día 234 alumnos por la mañana y 145 por la tarde. ¿Cuántos alumnos acuden a la escuela de lunes a viernes?


1. Comprende.

Pregunta: _____

Datos: _____

2. Piensa qué hay que hacer.

- una suma y una multiplicación.
 una resta y una suma.
 una multiplicación.

3. Calcula.

Respuesta: _____

Nombre _____ Fecha _____

Jaime y su hermana han comprado en la tienda un jersey y dos cazadoras. ¿Cuánto dinero han tenido que pagar?



1. Comprende.


Pregunta: _____

Datos: _____

2. Piensa qué hay que hacer.

- una suma.
- una resta y una suma.
- una multiplicación y una suma.

3. Calcula.



Respuesta: _____

Los organizadores de un concierto han vendido 479 entradas como esta. Después de pagar 735 € a los músicos, ¿cuánto dinero les ha quedado?



1. Comprende.


Pregunta: _____

Datos: _____

2. Piensa qué hay que hacer.

- una suma.
- una multiplicación y una resta.
- una suma y una resta.

3. Calcula.



Respuesta: _____

Nombre _____ Fecha _____

Una fábrica de neumáticos tiene que fabricar ruedas para 232 camiones como este. ¿Cuántas ruedas tienen que fabricar en total?



1. Comprende.


Pregunta: _____

Datos: _____

2. Piensa qué hay que hacer.

- una suma.
- una resta y una suma.
- una multiplicación.

3. Calcula.



Respuesta:

La hermana de David tiene 8 cajas de bombones como esta. ¿Cuántos bombones tiene la hermana de David?



1. Comprende.


Pregunta: _____

Datos: _____

2. Piensa qué hay que hacer.

- una suma.
- una suma y una multiplicación.
- una multiplicación.

3. Calcula.



Respuesta:

Nombre _____ Fecha _____

Luisa me ha pedido que le ayude a meter estas almendras garrapiñadas en partes iguales en las bolsas. ¿Cuántas almendras garrapiñadas habrá dentro de cada bolsita?


**1. Comprende.**

Pregunta: _____

Datos: _____

2. Piensa qué hay que hacer.

- una suma.
 una resta.
 una división.

3. Calcula.

Respuesta: _____

Mariana tiene en su armario 24 camisetas repartidas en partes iguales en 4 cajones. ¿Cuántas camisetas hay en cada cajón?


1. Comprende.

Pregunta: _____

Datos: _____

2. Piensa qué hay que hacer.

- una suma.
 una multiplicación.
 una división.

3. Calcula.

Respuesta: _____

Nombre _____ Fecha _____

En un club de tenis tienen que guardar todas las pelotas en botes como este. ¿Cuántos botes necesitan para guardar 684 pelotas?



1. Comprende.


Pregunta: _____

Datos: _____

2. Piensa qué hay que hacer.

- una suma.
- una división.
- una multiplicación.

3. Calcula.



Respuesta:

María tiene 88 margaritas para hacer 7 ramos iguales. ¿Cuántas margaritas tendrá cada ramo? ¿Cuántas le sobrarán?

1. Comprende.


Pregunta: _____

Datos: _____

2. Piensa qué hay que hacer.

- una multiplicación.
- una suma y una división.
- una división.

3. Calcula.



Respuesta:

Nombre _____ Fecha _____

María del Mar tenía un cesto con 125 mandarinas. Las ha repartido en partes iguales entre sus amigos. ¿Cuántas mandarinas ha recibido cada amigo?



1. Comprende.


Pregunta: _____

Datos: _____

2. Piensa qué hay que hacer.

- una suma.
- una resta y una suma.
- una división.

3. Calcula.



Respuesta:

Entre 4 dependientes han colocado, en partes iguales, 244 latas de tomate en la estantería del supermercado. ¿Cuántas latas ha colocado cada uno?

1. Comprende.


Pregunta: _____

Datos: _____

2. Piensa qué hay que hacer.

- una multiplicación.
- una resta.
- una división.

3. Calcula.



Respuesta:

Nombre _____ Fecha _____

En una bodega hay 87 litros de zumo de limón y 51 litros de agua. Para hacer limonada mezclan el zumo de limón y el agua en una botella como esta. ¿Cuántas botellas se llenarán en total?



1. Comprende.


Pregunta: _____

Datos: _____

2. Piensa qué hay que hacer.

- una suma.
- una suma y una división.
- una multiplicación y una suma.

3. Calcula.



Respuesta:

La madre de Miguel le regala una bolsa con 100 canicas para repartir en partes iguales entre sus 5 amigos. Miguel se queda con 25 y el resto lo reparte. ¿Cuántas canicas le tocarán a cada uno?

1. Comprende.


Pregunta: _____

Datos: _____

2. Piensa qué hay que hacer.

- una suma.
- una resta y una división.
- una suma y una resta.

3. Calcula.



Respuesta:

Nombre _____ Fecha _____

En la perrera municipal hay 255 perros.
Un tercio de los perros tienen menos de 1 año.
¿Cuántos perros son menores de un año?

1. Comprende.


Pregunta: _____

Datos: _____

2. Piensa qué hay que hacer.

- una suma.
- una multiplicación.
- una división.

3. Calcula.



Respuesta: _____

En la joyería de Marta han recibido un pedido con 95 relojes para chico y 57 relojes para chica. ¿Cuántas cajas como esta necesitarán para guardarlos?



1. Comprende.


Pregunta: _____

Datos: _____

2. Piensa qué hay que hacer.

- una suma.
- una multiplicación y una suma.
- una suma y una división.

3. Calcula.




Respuesta: _____

Nombre _____ Fecha _____

En la mercería *Rocío de la Hoz* han recibido una exclusiva pieza de tela de China.

¿Cuántos centímetros mide la pieza de tela?



1. Comprende.


Pregunta: _____

Datos: _____

2. Piensa qué hay que hacer.

- una suma.
- una resta.
- una multiplicación y una suma.

3. Calcula.



Respuesta:

Para batir el récord del polideportivo, un nadador ha recorrido una distancia de 2 km y 500 m.

¿Cuántos metros ha recorrido en total?

1. Comprende.


Pregunta: _____

Datos: _____

2. Piensa qué hay que hacer.

- una suma.
- una multiplicación y una suma.
- una división y una suma.

3. Calcula.



Respuesta:

Nombre _____ Fecha _____

A la perra de Guillermo y Amalia le faltan 20 días para cumplir 4 años.

¿Cuántos días tiene la perra de Guillermo?

1. Comprende.


Pregunta: _____

Datos: _____

2. Piensa qué hay que hacer.

- una suma.
- una resta.
- una multiplicación y una resta.

3. Calcula.



Respuesta: _____

El padre de Marcos se va a echar la siesta durante una hora.

¿A qué hora se despertará?



1. Comprende.


Pregunta: _____

Datos: _____

2. Piensa qué hay que hacer.

- una suma.
- una multiplicación y una suma.
- una suma y una resta.

3. Calcula.



Respuesta: _____

4 PRIMARIA

Operaciones

| | | |
|----------|--|----|
| Ficha 1 | Suma (propiedad conmutativa y asociativa) . . . | 53 |
| Ficha 2 | Sumas y restas combinadas sin paréntesis . . . | 54 |
| Ficha 3 | Sumas y restas combinadas con paréntesis . . . | 55 |
| Ficha 4 | Multiplicaciones por un dígito llevando | 56 |
| Ficha 5 | Multiplicaciones (propiedades conmutativa y asociativa) | 57 |
| Ficha 6 | Multiplicaciones por dos dígitos llevando | 58 |
| Ficha 7 | Multiplicaciones por una y dos cifras llevando y sin llevar | 59 |
| Ficha 8 | Multiplicaciones por tres cifras | 60 |
| Ficha 9 | Multiplicaciones por una, dos y tres cifras | 61 |
| Ficha 10 | Sumas, restas y multiplicaciones. Propiedad distributiva | 62 |
| Ficha 11 | Sumas, restas y multiplicaciones | 63 |
| Ficha 12 | Divisiones con el divisor de una cifra, exactas y enteras | 64 |
| Ficha 13 | Divisiones con el divisor de una cifra y prueba de la división | 65 |
| Ficha 14 | Divisiones con el divisor de una cifra con ceros en el cociente | 66 |
| Ficha 15 | Divisiones con el divisor de dos cifras mayor y menor que las primeras dos cifras del dividendo | 67 |
| Ficha 16 | Divisiones con el divisor de dos cifras, mayor y menor que las primeras dos cifras del dividendo | 68 |
| Ficha 17 | Propiedad de la división exacta | 69 |
| Ficha 18 | Representación y comparación de fracciones | 70 |
| Ficha 19 | Fracción de un número | 71 |
| Ficha 20 | Lectura de decimales | 72 |

Problemas

| | | |
|----------|--|----|
| Ficha 1 | Sumas de tres sumandos | 73 |
| Ficha 2 | Restas llevando | 74 |
| Ficha 3 | Suma o resta | 75 |
| Ficha 4 | Problemas de dos operaciones (suma y resta) | 76 |
| Ficha 5 | Multiplicaciones por números de una cifra | 77 |
| Ficha 6 | Multiplicaciones por números de dos cifras | 78 |
| Ficha 7 | Problemas de dos operaciones (suma y multiplicación/multiplicación y resta) | 79 |
| Ficha 8 | División exacta | 80 |
| Ficha 9 | División entera | 81 |
| Ficha 10 | División entera y división exacta | 82 |
| Ficha 11 | División (divisor de dos cifras mayor que las primeras dos cifras del dividendo) | 83 |
| Ficha 12 | División (divisor de dos cifras mayor que las primeras dos cifras del dividendo) | 84 |
| Ficha 13 | Problemas de dos operaciones (suma y división/resta y división) | 85 |
| Ficha 14 | Problemas de dos operaciones (suma y división/resta y división) | 86 |
| Ficha 15 | División. Multiplicación | 87 |
| Ficha 16 | Suma. División | 88 |
| Ficha 17 | Resta. División | 89 |
| Ficha 18 | Problemas de dos operaciones (suma y resta/resta y suma) | 90 |
| Ficha 19 | Problemas de dos operaciones (resta y división/multiplicación y división) | 91 |
| Ficha 20 | Tiempo (cuánto tarda, en horas completas y en horas y media) | 92 |
| Ficha 21 | Tiempo (cuánto tarda, en horas completas y en horas y media) | 93 |
| Ficha 22 | Fracciones (la fracción de un número) | 94 |
| Ficha 23 | Longitud | 95 |
| Ficha 24 | Capacidad y masa | 96 |

Nombre _____ Fecha _____

- **Aplica la propiedad conmutativa de la suma y calcula.**

| | |
|---|---|
| $398 + 425 = \underline{\quad} + \underline{\quad} = \underline{\quad}$ | $452 + 28 = \underline{\quad} + \underline{\quad} = \underline{\quad}$ |
| $1.019 + 4.317 = \underline{\quad} + \underline{\quad} = \underline{\quad}$ | $281 + 936 = \underline{\quad} + \underline{\quad} = \underline{\quad}$ |
| $5.399 + 2.847 = \underline{\quad} + \underline{\quad} = \underline{\quad}$ | $497 + 700 = \underline{\quad} + \underline{\quad} = \underline{\quad}$ |
| $3.786 + 586 = \underline{\quad} + \underline{\quad} = \underline{\quad}$ | $536 + 384 = \underline{\quad} + \underline{\quad} = \underline{\quad}$ |

- **Aplica la propiedad asociativa de la suma y calcula.**

$(752 + 348) + 61 = \underline{\quad} + (\underline{\quad} + \underline{\quad}) = \underline{\hspace{2cm}}$

$(3.864 + 56) + 937 = \underline{\quad} + (\underline{\quad} + \underline{\quad}) = \underline{\hspace{2cm}}$

$493 + (38 + 526) = (\underline{\quad} + \underline{\quad}) + \underline{\quad} = \underline{\hspace{2cm}}$

$304 + (672 + 8.195) = (\underline{\quad} + \underline{\quad}) + \underline{\quad} = \underline{\hspace{2cm}}$

- **Coloca los paréntesis de dos formas distintas y comprueba el resultado.**

$$52 + 16 + 30$$

- _____
- _____

$$93 + 70 + 8$$


- _____
- _____

$$250 + 27 + 11$$


- _____
- _____

- **Coloca y suma.**


$$899 + 5 + 2.255$$



$$2.255 + 899 + 5$$



$$5 + 2.255 + 899$$



Nombre _____ Fecha _____

• **Calcula.**

$55 - 35 - 13$

$$\boxed{} \bigcirc = $$

$49 + 26 - 4$

$$\boxed{} \bigcirc = $$

$96 + 26 - 90$

$$\boxed{} \bigcirc = $$

$100 - 50 - 20$

$$\boxed{} \bigcirc = $$

$30 + 27 - 24$

$$\boxed{} \bigcirc = $$

$145 - 37 - 26$

$$\boxed{} \bigcirc = $$

$29 + 16 - 13$

$$\boxed{} \bigcirc = $$

$56 - 10 + 1$

$$\boxed{} \bigcirc = $$

$85 + 46 + 44$

$$\boxed{} \bigcirc = $$

$90 + 76 - 11$

$$\boxed{} \bigcirc = $$

• **Completa.**

$$\begin{array}{r} \boxed{} \\ - 475 \\ \hline 124 \end{array}$$

$$\begin{array}{r} 320 \\ - \boxed{} \\ \hline 235 \end{array}$$

$$\begin{array}{r} \boxed{} \\ - 277 \\ \hline 579 \end{array}$$

$$\begin{array}{r} 427 \\ - \boxed{} \\ \hline 352 \end{array}$$

$$\begin{array}{r} \boxed{} \\ + 496 \\ \hline 825 \end{array}$$

$$\begin{array}{r} \boxed{} \\ + 521 \\ \hline 972 \end{array}$$

$$\begin{array}{r} 621 \\ + \boxed{} \\ \hline 815 \end{array}$$

$$\begin{array}{r} 792 \\ + \boxed{} \\ \hline 900 \end{array}$$

Nombre _____ Fecha _____

• **Multiplica.**

$$\begin{array}{r} 432 \\ \times 4 \\ \hline \end{array}$$

$$\begin{array}{r} 723 \\ \times 5 \\ \hline \end{array}$$

$$\begin{array}{r} 907 \\ \times 6 \\ \hline \end{array}$$

$$\begin{array}{r} 620 \\ \times 8 \\ \hline \end{array}$$

$$\begin{array}{r} 684 \\ \times 3 \\ \hline \end{array}$$

$$\begin{array}{r} 394 \\ \times 9 \\ \hline \end{array}$$

$$\begin{array}{r} 902 \\ \times 7 \\ \hline \end{array}$$

$$\begin{array}{r} 785 \\ \times 5 \\ \hline \end{array}$$

$$\begin{array}{r} 675 \\ \times 7 \\ \hline \end{array}$$

$$\begin{array}{r} 409 \\ \times 6 \\ \hline \end{array}$$

$$\begin{array}{r} 563 \\ \times 2 \\ \hline \end{array}$$

$$\begin{array}{r} 380 \\ \times 8 \\ \hline \end{array}$$

• **Multiplica.**

$$\begin{array}{r} 8356 \\ \times 5 \\ \hline \end{array}$$

$$\begin{array}{r} 5927 \\ \times 6 \\ \hline \end{array}$$

$$\begin{array}{r} 7321 \\ \times 4 \\ \hline \end{array}$$

$$\begin{array}{r} 4867 \\ \times 3 \\ \hline \end{array}$$

$$\begin{array}{r} 4251 \\ \times 7 \\ \hline \end{array}$$


$$\begin{array}{r} 1907 \\ \times 5 \\ \hline \end{array}$$

$$\begin{array}{r} 3276 \\ \times 2 \\ \hline \end{array}$$


$$\begin{array}{r} 6075 \\ \times 3 \\ \hline \end{array}$$

• **Coloca y multiplica.**


$$4.723 \times 6$$



$$583 \times 5$$



$$3.456 \times 9$$



Nombre _____ Fecha _____

• **Completa y resuelve.**

$5 \times 3 = 3 \times 5 = \underline{\quad}$

$\underline{\quad} \times \underline{\quad} = 3 \times 4 = \underline{\quad}$

$4 \times 9 = \underline{\quad} \times \underline{\quad} = \underline{\quad}$

$\underline{\quad} \times \underline{\quad} = 5 \times 2 = \underline{\quad}$

$\underline{\quad} \times 7 = 7 \times 4 = \underline{\quad}$

$8 \times \underline{\quad} = 4 \times \underline{\quad} = \underline{\quad}$

$5 \times 6 = \underline{\quad} \times 5 = \underline{\quad}$

$9 \times 6 = \underline{\quad} \times \underline{\quad} = \underline{\quad}$

• **Resuelve.**

$(6 \times 5) \times 7 = \underline{\hspace{10cm}}$

$(7 \times 10) \times 2 = \underline{\hspace{10cm}}$

$10 \times (9 \times 8) = \underline{\hspace{10cm}}$

$5 \times (10 \times 9) = \underline{\hspace{10cm}}$

$8 \times (5 \times 3) = \underline{\hspace{10cm}}$

• **Coloca el paréntesis y resuelve.**

$4 \times 9 \times 2 = 36 \times 2 = \underline{\quad}$

$6 \times 8 \times 5 = 6 \times 40 = \underline{\quad}$

$2 \times 7 \times 10 = 14 \times 10 = \underline{\quad}$


$2 \times 3 \times 5 = 6 \times 5 = \underline{\quad}$

$6 \times 2 \times 5 = 6 \times 10 = \underline{\quad}$

$10 \times 4 \times 7 = 40 \times 7 = \underline{\quad}$

• **Observa los dibujos y escribe la multiplicación que corresponda.**







Nombre _____ Fecha _____

• **Multiplica.**

$$\begin{array}{r} 675 \\ \times 7 \\ \hline \end{array}$$

$$\begin{array}{r} 409 \\ \times 6 \\ \hline \end{array}$$

$$\begin{array}{r} 563 \\ \times 2 \\ \hline \end{array}$$

$$\begin{array}{r} 380 \\ \times 8 \\ \hline \end{array}$$

$$\begin{array}{r} 49 \\ \times 36 \\ \hline \end{array}$$

$$\begin{array}{r} 57 \\ \times 48 \\ \hline \end{array}$$

$$\begin{array}{r} 54 \\ \times 29 \\ \hline \end{array}$$

$$\begin{array}{r} 73 \\ \times 25 \\ \hline \end{array}$$

$$\begin{array}{r} 248 \\ \times 24 \\ \hline \end{array}$$

$$\begin{array}{r} 256 \\ \times 35 \\ \hline \end{array}$$

$$\begin{array}{r} 476 \\ \times 25 \\ \hline \end{array}$$

$$\begin{array}{r} 582 \\ \times 65 \\ \hline \end{array}$$

$$\begin{array}{r} 1632 \\ \times 44 \\ \hline \end{array}$$

$$\begin{array}{r} 2532 \\ \times 23 \\ \hline \end{array}$$

$$\begin{array}{r} 1342 \\ \times 72 \\ \hline \end{array}$$




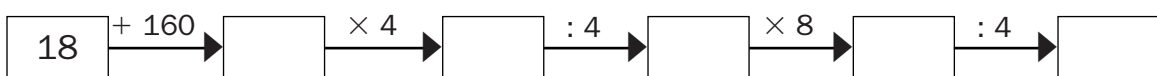
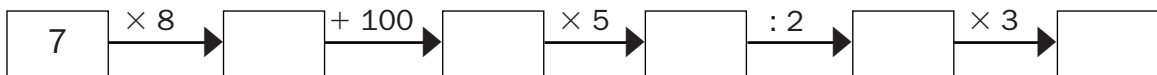
$$\begin{array}{r} 2453 \\ \times 20 \\ \hline \end{array}$$

• **Coloca y multiplica.**

$$35 \times 42$$

$$428 \times 24$$

$$1.248 \times 45$$

• **Completa las series.**

Nombre _____ Fecha _____

• **Multiplica.**

$$\begin{array}{r} 825 \\ \times 125 \\ \hline \end{array}$$

$$\begin{array}{r} 663 \\ \times 507 \\ \hline \end{array}$$

$$\begin{array}{r} 308 \\ \times 147 \\ \hline \end{array}$$

$$\begin{array}{r} 1243 \\ \times 380 \\ \hline \end{array}$$

$$\begin{array}{r} 2050 \\ \times 400 \\ \hline \end{array}$$

$$\begin{array}{r} 4213 \\ \times 268 \\ \hline \end{array}$$

$$\begin{array}{r} 1543 \\ \times 478 \\ \hline \end{array}$$

$$\begin{array}{r} 6653 \\ \times 354 \\ \hline \end{array}$$

$$\begin{array}{r} 537 \\ \times 329 \\ \hline \end{array}$$

$$\begin{array}{r} 284 \\ \times 602 \\ \hline \end{array}$$

$$\begin{array}{r} 442 \\ \times 248 \\ \hline \end{array}$$




$$\begin{array}{r} 348 \\ \times 564 \\ \hline \end{array}$$

• **Coloca y multiplica.**


$$436 \times 274$$

$$371 \times 423$$

$$687 \times 356$$

• **Escribe y calcula tres multiplicaciones con los números dados.**

243 126 38



Nombre _____ Fecha _____

• **Multiplica.**

$$\begin{array}{r} 632 \\ \times 3 \\ \hline \end{array}$$

$$\begin{array}{r} 438 \\ \times 5 \\ \hline \end{array}$$

$$\begin{array}{r} 630 \\ \times 6 \\ \hline \end{array}$$

$$\begin{array}{r} 321 \\ \times 2 \\ \hline \end{array}$$

$$\begin{array}{r} 576 \\ \times 9 \\ \hline \end{array}$$

$$\begin{array}{r} 326 \\ \times 8 \\ \hline \end{array}$$

$$\begin{array}{r} 744 \\ \times 7 \\ \hline \end{array}$$

$$\begin{array}{r} 659 \\ \times 6 \\ \hline \end{array}$$

• **Multiplica.**

$$\begin{array}{r} 249 \\ \times 26 \\ \hline \end{array}$$

$$\begin{array}{r} 358 \\ \times 37 \\ \hline \end{array}$$

$$\begin{array}{r} 462 \\ \times 48 \\ \hline \end{array}$$

$$\begin{array}{r} 573 \\ \times 59 \\ \hline \end{array}$$

$$\begin{array}{r} 1684 \\ \times 37 \\ \hline \end{array}$$

$$\begin{array}{r} 2873 \\ \times 92 \\ \hline \end{array}$$

$$\begin{array}{r} 3289 \\ \times 67 \\ \hline \end{array}$$

$$\begin{array}{r} 4584 \\ \times 45 \\ \hline \end{array}$$

• **Multiplica.**

$$\begin{array}{r} 392 \\ \times 196 \\ \hline \end{array}$$

$$\begin{array}{r} 722 \\ \times 541 \\ \hline \end{array}$$

$$\begin{array}{r} 585 \\ \times 378 \\ \hline \end{array}$$

$$\begin{array}{r} 634 \\ \times 279 \\ \hline \end{array}$$

$$\begin{array}{r} 1529 \\ \times 232 \\ \hline \end{array}$$

$$\begin{array}{r} 2763 \\ \times 451 \\ \hline \end{array}$$

$$\begin{array}{r} 3841 \\ \times 613 \\ \hline \end{array}$$

$$\begin{array}{r} 5790 \\ \times 732 \\ \hline \end{array}$$

Nombre _____ Fecha _____

• **Suma.**

$$\begin{array}{r} 563 \\ 328 \\ + 199 \\ \hline \end{array}$$

$$\begin{array}{r} 854 \\ 346 \\ + 721 \\ \hline \end{array}$$

$$\begin{array}{r} 567 \\ 85 \\ + 394 \\ \hline \end{array}$$

$$\begin{array}{r} 876 \\ 91 \\ + 458 \\ \hline \end{array}$$

• **Resta y haz la prueba.**

$$\begin{array}{r} 5579 \\ - 405 \\ \hline \end{array}$$

$$\begin{array}{r} 1435 \\ - 389 \\ \hline \end{array}$$

$$\begin{array}{r} 6216 \\ - 697 \\ \hline \end{array}$$

$$\begin{array}{r} 4839 \\ - 206 \\ \hline \end{array}$$

• **Multiplica.**

$$\begin{array}{r} 487 \\ \times 25 \\ \hline \end{array}$$

$$\begin{array}{r} 382 \\ \times 34 \\ \hline \end{array}$$

$$\begin{array}{r} 829 \\ \times 71 \\ \hline \end{array}$$

$$\begin{array}{r} 498 \\ \times 48 \\ \hline \end{array}$$

$$\begin{array}{r} 1273 \\ \times 23 \\ \hline \end{array}$$

$$\begin{array}{r} 3467 \\ \times 62 \\ \hline \end{array}$$

$$\begin{array}{r} 2641 \\ \times 81 \\ \hline \end{array}$$

$$\begin{array}{r} 5146 \\ \times 92 \\ \hline \end{array}$$

• **Calcula.**

$$2 \times (4 + 7) = \underline{\quad} \times \underline{\quad} + \underline{\quad} \times \underline{\quad} = \underline{\quad} + \underline{\quad} = \underline{\quad}$$

$$4 \times (5 + 9) = \underline{\quad} \times \underline{\quad} + \underline{\quad} \times \underline{\quad} = \underline{\quad} + \underline{\quad} = \underline{\quad}$$

$$6 \times (9 - 4) = \underline{\quad} \times \underline{\quad} - \underline{\quad} \times \underline{\quad} = \underline{\quad} - \underline{\quad} = \underline{\quad}$$

$$8 \times (8 - 2) = \underline{\quad} \times \underline{\quad} - \underline{\quad} \times \underline{\quad} = \underline{\quad} - \underline{\quad} = \underline{\quad}$$

Nombre _____ Fecha _____

• **Divide.**

| | | | |
|---------------------|---------------------|---------------------|---------------------|
| $32 \overline{) 8}$ | $45 \overline{) 9}$ | $15 \overline{) 5}$ | $24 \overline{) 6}$ |
| $28 \overline{) 2}$ | $45 \overline{) 3}$ | $84 \overline{) 7}$ | $44 \overline{) 4}$ |
| $30 \overline{) 5}$ | $18 \overline{) 2}$ | $36 \overline{) 9}$ | $72 \overline{) 8}$ |

• **Divide e indica si es una división exacta o entera.**

| | |
|---|---|
| $19 : 2 = \boxed{} \blacktriangleright$ _____ | $7 : 2 = \boxed{} \blacktriangleright$ _____ |
| $25 : 6 = \boxed{} \blacktriangleright$ _____ | $57 : 8 = \boxed{} \blacktriangleright$ _____ |
| $10 : 3 = \boxed{} \blacktriangleright$ _____ | $37 : 9 = \boxed{} \blacktriangleright$ _____ |

• **Divide.**

| | | | |
|-----------------------|-----------------------|-----------------------|-----------------------|
| $924 \overline{) 7}$ | $153 \overline{) 3}$ | $216 \overline{) 4}$ | $225 \overline{) 9}$ |
| $173 \overline{) 5}$ | $649 \overline{) 7}$ | $931 \overline{) 6}$ | $457 \overline{) 8}$ |
| $3259 \overline{) 9}$ | $2604 \overline{) 4}$ | $1056 \overline{) 8}$ | $6854 \overline{) 7}$ |

Nombre _____ Fecha _____

• **Divide.**

| | | | |
|----------------------|----------------------|----------------------|----------------------|
| $510 \overline{) 5}$ | $660 \overline{) 6}$ | $280 \overline{) 4}$ | $140 \overline{) 7}$ |
| $240 \overline{) 8}$ | $180 \overline{) 3}$ | $972 \overline{) 9}$ | $912 \overline{) 3}$ |

• **Divide y haz la prueba.**

| | | | |
|-----------------------|-----------------------|-----------------------|-----------------------|
| $1421 \overline{) 7}$ | $3619 \overline{) 6}$ | $1836 \overline{) 9}$ | $2822 \overline{) 4}$ |
| $1027 \overline{) 5}$ | $1820 \overline{) 3}$ | $6334 \overline{) 8}$ | $1580 \overline{) 3}$ |

• **Coloca, divide y haz la prueba.**

| | |
|-----------|-------------|
| $606 : 3$ | $1.808 : 2$ |
| | |

• **Completa.**

$60 \xrightarrow{\times 5} \square \xrightarrow{: 2} \square \xrightarrow{: 10} \square \xrightarrow{\times 25} \square \xrightarrow{: 3} \square$
 $90 \xrightarrow{\times 4} \square \xrightarrow{: 10} \square \xrightarrow{\times 9} \square \xrightarrow{\times 6} \square \xrightarrow{\times 2} \square$

Nombre _____ Fecha _____

• **Completa.**

| | | |
|---|---|---|
| $\begin{array}{ccc} 63 : 7 = \underline{\hspace{2cm}} \\ \times 3 \downarrow \quad \times 3 \downarrow \\ \underline{\hspace{1cm}} : \underline{\hspace{1cm}} = \underline{\hspace{1cm}} \end{array}$ | $\begin{array}{ccc} 45 : 9 = \underline{\hspace{2cm}} \\ \times 2 \downarrow \quad \times 2 \downarrow \\ \underline{\hspace{1cm}} : \underline{\hspace{1cm}} = \underline{\hspace{1cm}} \end{array}$ | $\begin{array}{ccc} 56 : 8 = \underline{\hspace{2cm}} \\ \times 4 \downarrow \quad \times 4 \downarrow \\ \underline{\hspace{1cm}} : \underline{\hspace{1cm}} = \underline{\hspace{1cm}} \end{array}$ |
|---|---|---|

• **Completa.**

| | | |
|---|---|---|
| $\begin{array}{ccc} 18 : 2 = \underline{\hspace{2cm}} \\ : 2 \downarrow \quad : 2 \downarrow \\ \underline{\hspace{1cm}} : \underline{\hspace{1cm}} = \underline{\hspace{1cm}} \end{array}$ | $\begin{array}{ccc} 40 : 8 = \underline{\hspace{2cm}} \\ : 4 \downarrow \quad : 4 \downarrow \\ \underline{\hspace{1cm}} : \underline{\hspace{1cm}} = \underline{\hspace{1cm}} \end{array}$ | $\begin{array}{ccc} 24 : 6 = \underline{\hspace{2cm}} \\ : 3 \downarrow \quad : 3 \downarrow \\ \underline{\hspace{1cm}} : \underline{\hspace{1cm}} = \underline{\hspace{1cm}} \end{array}$ |
|---|---|---|

• **Completa.**

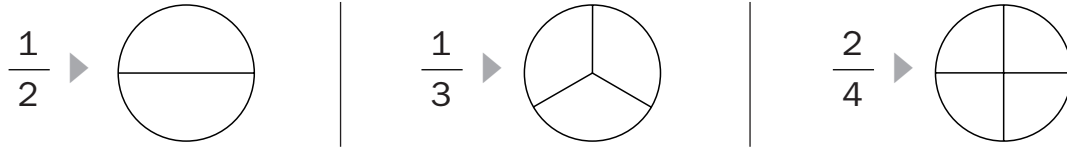
| | | |
|---|---|---|
| $\begin{array}{ccc} 24 : 4 = \underline{\hspace{2cm}} \\ \times 2 \downarrow \quad \downarrow \\ 48 : \underline{\hspace{1cm}} = \underline{\hspace{1cm}} \end{array}$ | $\begin{array}{ccc} 36 : 9 = \underline{\hspace{2cm}} \\ \times 3 \downarrow \quad \downarrow \\ 108 : \underline{\hspace{1cm}} = \underline{\hspace{1cm}} \end{array}$ | $\begin{array}{ccc} 72 : 8 = \underline{\hspace{2cm}} \\ \times 3 \downarrow \quad \downarrow \\ \underline{\hspace{1cm}} : 8 = \underline{\hspace{1cm}} \end{array}$ |
| $\begin{array}{ccc} 36 : 6 = \underline{\hspace{2cm}} \\ : 2 \downarrow \quad : 2 \downarrow \\ \underline{\hspace{1cm}} : \underline{\hspace{1cm}} = \underline{\hspace{1cm}} \end{array}$ | $\begin{array}{ccc} 48 : 8 = \underline{\hspace{2cm}} \\ : 2 \downarrow \quad : 2 \downarrow \\ \underline{\hspace{1cm}} : \underline{\hspace{1cm}} = \underline{\hspace{1cm}} \end{array}$ | $\begin{array}{ccc} 72 : 9 = \underline{\hspace{2cm}} \\ : 3 \downarrow \quad : 3 \downarrow \\ \underline{\hspace{1cm}} : \underline{\hspace{1cm}} = \underline{\hspace{1cm}} \end{array}$ |

• **Calcula.**

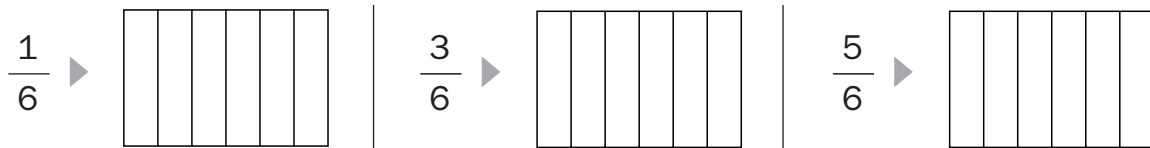
| | |
|-----------------------|------------------------|
| 8.000 : 1.000 = _____ | 300 : 100 = _____ |
| 630 : 70 = _____ | 5.600 : 800 = _____ |
| 3.600 : 40 = _____ | 42.000 : 60 = _____ |
| 45.000 : 500 = _____ | 27.000 : 3.000 = _____ |

Nombre _____ Fecha _____

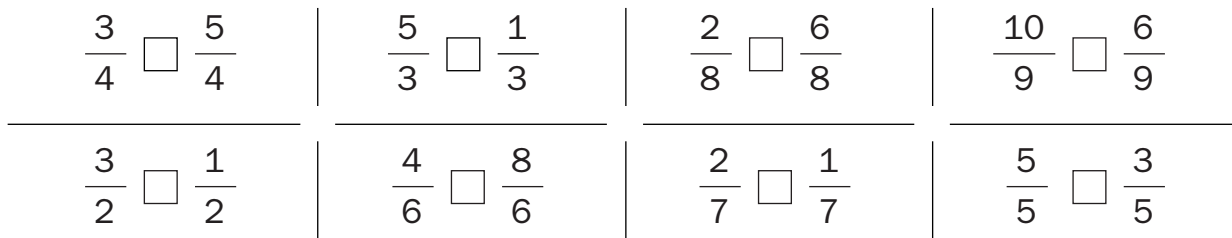
- **Colorea lo que representa cada fracción.**



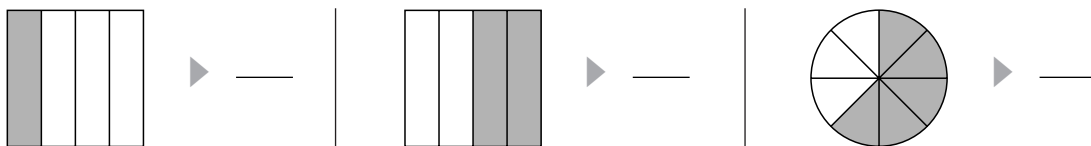
- **Colorea lo que representa cada fracción.**



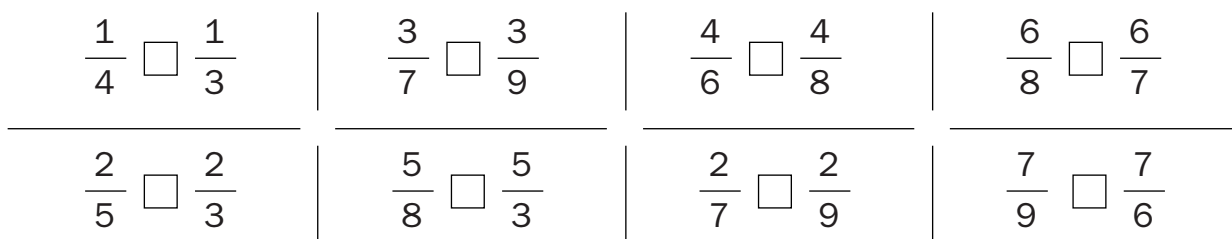
- **Escribe > o < según corresponda.**



- **Escribe la fracción que representa la parte coloreada.**



- **Escribe > o < según corresponda.**



Nombre _____ Fecha _____

• **Calcula.**

$$\frac{3}{4} \text{ de } 80 = \underline{\hspace{2cm}}$$

$$\frac{7}{10} \text{ de } 40 = \underline{\hspace{2cm}}$$

$$\frac{1}{2} \text{ de } 60 = \underline{\hspace{2cm}}$$

$$\frac{5}{6} \text{ de } 300 = \underline{\hspace{2cm}}$$

$$\frac{2}{4} \text{ de } 400 = \underline{\hspace{2cm}}$$

$$\frac{2}{5} \text{ de } 200 = \underline{\hspace{2cm}}$$

• **Calcula.**

$$\frac{3}{5} \text{ de } 2.325 = \underline{\hspace{2cm}}$$

$$\frac{4}{6} \text{ de } 3.618 = \underline{\hspace{2cm}}$$

$$\frac{2}{4} \text{ de } 1.888 = \underline{\hspace{2cm}}$$

$$\frac{5}{7} \text{ de } 3.941 = \underline{\hspace{2cm}}$$


• **Calcula y colorea las bolas según la clave.**

De rojo $\frac{1}{5}$

De verde $\frac{1}{4}$

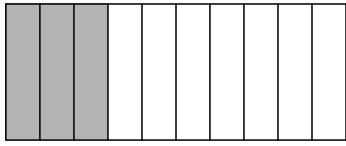
De azul $\frac{1}{10}$

De amarillo El resto

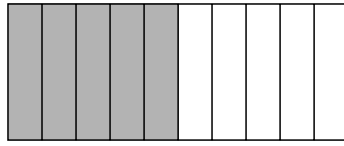


Nombre _____ Fecha _____

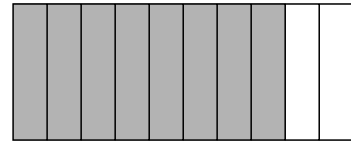
- **Observa, completa y escribe la fracción correspondiente.**



_____ décimas



_____ décimas



_____ décimas

- **Escribe en forma de decimal. Después, escribe cómo se lee.**

$$\frac{5}{10} = \underline{\hspace{2cm}}$$

$$\frac{3}{10} = \underline{\hspace{2cm}}$$

$$\frac{6}{10} = \underline{\hspace{2cm}}$$

- **Escribe en forma de fracción.**

$0,9 = \underline{\hspace{2cm}}$

$0,4 = \underline{\hspace{2cm}}$

$0,8 = \underline{\hspace{2cm}}$

$\text{dos décimas} = \underline{\hspace{2cm}}$

$\text{seis décimas} = \underline{\hspace{2cm}}$


$\text{siete décimas} = \underline{\hspace{2cm}}$

- **Colorea.**

De rojo 3 décimas

De azul 2 décimas

De amarillo 4 décimas



Nombre _____ Fecha _____

En el pueblo de Elena hay 3 urbanizaciones. En la más grande viven 879 vecinos, en la mediana 564 y en la más pequeña 115. ¿Cuántos vecinos viven en las 3 urbanizaciones?


1. Comprende.

Pregunta: _____

Datos: _____

2. Piensa qué hay que hacer.

- una suma.
 una multiplicación.
 una suma y una multiplicación.

3. Calcula.

Respuesta: _____

A lo largo de la semana, en el lavadero de coches Ortiz han ingresado estas 3 cantidades.

¿Cuánto dinero han ganado al final de la semana?


**1. Comprende.**

Pregunta: _____

Datos: _____

2. Piensa qué hay que hacer.

- una suma.
 una resta.
 una multiplicación.

3. Calcula.

Respuesta: _____

Nombre _____ Fecha _____

En un libro de paisajes hay 2.976 fotografías.
 En cada página del libro hay 12 fotografías.
 ¿Cuántas páginas tiene este libro?


1. Comprende.

Pregunta: _____

Datos: _____

2. Piensa qué hay que hacer.

- una suma.
 una división.
 una multiplicación.

3. Calcula.

Respuesta:

Paco ha recogido 875 naranjas y las ha metido
 en bolsas de 25 naranjas cada una.
 ¿Cuántas bolsas de naranjas ha llenado?


1. Comprende.

Pregunta: _____

Datos: _____

2. Piensa qué hay que hacer.

- una suma.
 una división.
 una multiplicación.

3. Calcula.

Respuesta:

Nombre _____ Fecha _____

El club de jubilados ha organizado una visita al Museo de la Ciudad. El autobús cuesta 137 € y las entradas 238 €. ¿Cuánto le cuesta la visita a cada uno de los 75 jubilados?

1. Comprende.


Pregunta: _____

Datos: _____

2. Piensa qué hay que hacer.

- una suma.
- una división.
- una suma y una división.

3. Calcula.



Respuesta: _____

En una fábrica hicieron ayer 952 metros de hilo. Hoy han hecho 472 metros menos que ayer. ¿Cuántos carretes podrán preparar con los metros de hilo que han hecho hoy?



1. Comprende.


Pregunta: _____

Datos: _____

2. Piensa qué hay que hacer.

- una resta.
- una división.
- una resta y una división.

3. Calcula.



Respuesta: _____

Nombre _____ Fecha _____

En el cine *Versalles* han vendido 78 entradas para el estreno de hoy.

Si han recaudado en total 624 €, ¿cuánto cuesta cada entrada?

1. Comprende.


Pregunta: _____

Datos: _____

2. Piensa qué hay que hacer.

- una suma.
- una división.
- una resta.

3. Calcula.



Respuesta:

En la tintorería han comprado 35 cajas con disolvente para la ropa.

¿Cuántos botes de disolvente han comprado en total?



1. Comprende.


Pregunta: _____

Datos: _____

2. Piensa qué hay que hacer.

- una suma.
- una multiplicación.
- una resta.

3. Calcula.



Respuesta:

Nombre _____ Fecha _____

¿Cuántos euros necesita Natalia para comprar una minicadena de música, un teléfono móvil y un reproductor de DVD?



1. Comprende.


Pregunta: _____

Datos: _____

2. Piensa qué hay que hacer.

- una suma.
- una división.
- una multiplicación.

3. Calcula.



Respuesta: _____

Ana tiene una caja de cromos que reparte entre sus 21 compañeros de clase. Si a todos les da el mismo número de cromos, ¿cuántos cromos recibe cada uno?, ¿cuántos le sobran?



1. Comprende.


Pregunta: _____

Datos: _____

2. Piensa qué hay que hacer.

- una suma.
- una división.
- una suma y una división.

3. Calcula.



Respuesta: _____

Nombre _____ Fecha _____

Un camionero tardó en el viaje de ida 4 horas y media y en el viaje de vuelta 2 horas y media.
¿En cuánto tiempo realizó el viaje?

1. Comprende.


Pregunta: _____

Datos: _____

2. Piensa qué hay que hacer.

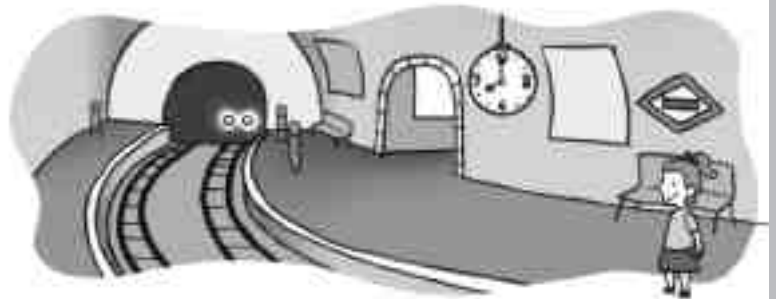
- una suma.
- una resta.
- una multiplicación.

3. Calcula.



Respuesta:

Carmen tarda media hora en llegar a su trabajo. ¿A qué hora llegará Carmen a su trabajo?



1. Comprende.


Pregunta: _____

Datos: _____

2. Piensa qué hay que hacer.

- una suma.
- una multiplicación.
- una resta.

3. Calcula.



Respuesta:

Soluciones 3.º de Primaria

Operaciones

Ficha 1

- $72 + 13 = 85$.
 $65 + 28 = 93$.
 $35 + 19 = 54$.
 $51 + 23 = 74$.
 $44 + 53 = 97$.
 $55 + 10 + 12 = 77$.
 $70 + 15 = 85$.
 $65 + 23 = 88$.
 $41 + 26 + 12 = 79$.
 $148 + 14 + 20 = 182$.
 $37 + 25 + 3 = 65$.
 $18 + 39 + 10 = 67$.
- $30 + 23 + 5 = 58$.
 $27 + 38 = 65$.
 $32 + 3 + 41 = 76$.
 $25 + 14 + 12 = 51$.
 $71 + 9 + 8 = 88$.
 $22 + 17 + 63 = 102$.
- $3.000 + 400 + 20 + 8$.
 $1.000 + 300 + 40 + 5$.

Ficha 2

- $4.817 + 748 = 5.565$ ► $748 + 4.817 = 5.565$.
 $579 + 215 = 794$ ► $215 + 579 = 794$.
 $6.843 + 1.232 = 8.075$ ► $1.232 + 6.843 = 8.075$.
 $916 + 647 = 1.563$ ► $647 + 916 = 1.563$.
- $452 + (65 + 10) = 452 + 75 = 527$.
 $(452 + 65) + 10 = 517 + 10 = 527$.
 $1.827 + (173 + 570) = 1.827 + 743 = 2.570$.
 $(1.827 + 173) + 570 = 2.000 + 570 = 2.570$.
 $545 + (143 + 71) = 545 + 214 = 759$.
 $(545 + 143) + 71 = 688 + 71 = 759$.
 $242 + (692 + 184) = 242 + 876 = 1.118$.
 $(242 + 692) + 184 = 934 + 184 = 1.118$.
- $784 + 369 = 369 + 784 = 1.153$.
 $925 + 309 = 309 + 925 = 1.234$.
 $374 + 375 = 375 + 374 = 749$.

$$628 + 192 = 192 + 628 = 820.$$

- $(750 + 361) + 34 = 1.111 + 34 = 1.145$.
 $750 + (361 + 34) = 750 + 395 = 1.145$.
 $(828 + 108) + 250 = 936 + 250 = 1.186$.
 $828 + (108 + 250) = 828 + 358 = 1.186$.
 $(1.116 + 110) + 25 = 1.226 + 25 = 1.251$.
 $1.116 + (110 + 25) = 1.116 + 135 = 1.251$.
 $(237 + 309) + 394 = 546 + 394 = 940$.
 $237 + (309 + 394) = 237 + 703 = 940$.

Ficha 3

- $472 - 243 = 229$.
 $864 - 703 = 161$.
 $431 - 267 = 164$.
 $512 - 208 = 304$.
 $625 - 192 = 433$.
 $792 - 347 = 445$.
 $477 - 281 = 196$.
 $913 - 167 = 746$.
 $4.540 - 1.420 = 3.120$.
 $5.782 - 2.461 = 3.321$.
 $7.682 - 3.451 = 4.231$.
 $6.749 - 3.527 = 3.222$.
- $6.749 - 346 = 6.403$.
 $768 - 345 = 423$.
 $9.786 - 2.453 = 7.333$.
 $815 - 497 = 318$.
 $3.609 - 208 = 3.401$.
 $828 - 319 = 509$.
- Respuesta modelo (R. M.).
 $9.628 - 6.608 = 3.020$.
 $49.435 - 4.347 = 45.088$.

Ficha 4

- $62.349 - 4.963 = 57.386$.
 $80.123 - 1.478 = 78.645$.
 $41.292 - 9.375 = 31.917$.
 $92.120 - 8.753 = 83.367$.
 $76.249 - 14.603 = 61.646$.
 $31.927 - 17.962 = 13.965$.
 $50.000 - 6.765 = 43.235$.
 $33.540 - 28.963 = 4.577$.

- $421 - 291 = 130.$
 $752 - 435 = 317.$
 $534 - 384 = 150.$
 $981 - 794 = 187.$
 $248 - 185 = 63.$
 $813 - 651 = 162.$
- $627 - 258 = 369.$
 $213 - 124 = 89.$
 $356 - 187 = 169.$
 $634 - 170 = 464.$
 $569 - 377 = 192.$
 $646 - 389 = 257.$
- $78.435 - 16.302 = 62.133 \blacktriangleright 16.302 +$
 $+ 62.133 = 78.435.$
 $2.325 - 713 = 1.612 \blacktriangleright 713 + 1.612 =$
 $= 2.325.$
 $8.409 - 1.270 = 7.139 \blacktriangleright 1.270 +$
 $+ 7.139 = 8.409.$
 $82.629 - 7.232 = 75.397 \blacktriangleright 7.232 +$
 $+ 75.397 = 82.629.$

Ficha 5

- $7.050 - 899 = 6.151.$
 $4.295 + 3.102 + 1.879 = 9.276.$
 $2.956 + 3.971 + 1.239 = 8.166.$
 $6.227 - 582 = 5.645.$
 $7.321 + 970 + 403 = 8.694.$
 $5.324 - 3.421 = 1.903.$
 $2.153 + 515 + 109 = 2.777.$
 $6.323 - 346 = 5.977.$
- $7.960 + 367 + 28 = 8.355.$
 $495 + 1.672 + 54 = 2.221.$
 $5.598 + 627 + 3 = 6.228.$
- $77.549 - 14.504 = 63.045.$
 $40.917 - 17.963 = 22.954.$
 $33.740 - 29.962 = 3.778.$
- $9.203; 8.454; 9.964; 9.072.$

Ficha 6

- $18.332 + 3.825 + 2.235 = 24.392.$
 $12.134 + 5.764 + 795 = 18.693.$
 $35.004 + 13.627 + 72 = 48.703.$
 $76.428 + 3.720 + 39 = 80.187.$

- $7.418 - 3.046 = 4.372.$
 $6.870 - 2.894 = 3.976.$
 $4.527 - 703 = 3.824.$
 $3.000 - 1.560 = 1.440.$
 $4.281 - 2.089 = 2.192.$
 $6.856 - 5.026 = 1.830.$
 $4.383 - 947 = 3.436.$
 $3.742 - 1.316 = 2.426.$
- $8.432 + 24.615 + 484 = 33.531.$
 $9.729 + 42.636 = 52.365.$
 $54.976 + 5.384 = 60.360.$
 $34.000 - 12.700 = 21.300.$
 $56.900 - 9.280 = 47.620.$
 $73.500 - 999 = 72.501.$
- $375; 325; 425; 350; 425.$
 $570; 970; 820; 1.270; 1.070.$

Ficha 7

- $8.594 + 3857 + 29 = 12.480.$
 $3.421 + 590 + 563 = 4.574.$
 $1.567 + 9.018 + 1.032 = 11.617.$
 $4.395 + 574 + 4.693 = 9.662.$
- $2.181 - 342 = 1.839.$
 $3.493 - 1.650 = 1.843.$
 $5.134 - 3.150 = 1.984.$
 $9.213 - 650 = 8.563.$
- $3.145 + 708 + 319 = 4.172.$
 $4.783 - 3.191 = 1.592.$
 $7.846 + 8.463 = 16.309.$
 $1.237 - 259 = 978.$
- R. M.
 $587 - 437 = 150; 437 - 281 = 156.$
 $4.392 - 984 = 3.408; 4.392 - 2.726 =$
 $= 1.666.$

Ficha 8

- $222 \times 3 = 666.$
 $323 \times 3 = 969.$
 $120 \times 2 = 240.$
 $421 \times 3 = 1.263.$
 $143 \times 2 = 286.$
 $302 \times 3 = 906.$
 $210 \times 4 = 840.$
 $112 \times 4 = 448.$

- $1.243 \times 2 = 2.486$.
 $2.312 \times 3 = 6.936$.
 $2.020 \times 4 = 8.080$.
 $2.130 \times 3 = 6.390$.
 $3.210 \times 3 = 9.630$.
 $1.201 \times 4 = 4.804$.
 $3.421 \times 2 = 6.842$.
 $1.232 \times 3 = 3.696$.
- $432 \times 3 = 1.296$.
 $3.203 \times 3 = 9.609$.
- $2.102 \times 3 = 6.306$.
 $4.203 \times 2 = 8.406$.

Ficha 9

- $285 \times 2 = 570$.
 $471 \times 5 = 2.355$.
 $272 \times 2 = 544$.
 $421 \times 4 = 1.684$.
 $363 \times 8 = 2.904$.
 $574 \times 7 = 4.018$.
 $193 \times 6 = 1.158$.
 $253 \times 9 = 2.227$.
- $3.427 \times 8 = 27.416$.
 $5.626 \times 2 = 11.252$.
 $9.402 \times 4 = 37.608$.
 $6.724 \times 7 = 47.068$.
 $8.012 \times 4 = 32.048$.
 $1.634 \times 9 = 14.706$.
 $3.107 \times 8 = 24.856$.
 $2.316 \times 5 = 11.580$.
- $452 \times 3 = 1.356$.
 $281 \times 5 = 1.405$.
 $392 \times 2 = 784$.
- 36; 108; 216; 1.080; 2.160.
 248; 744; 2.976; 14.880; 89.280.

Ficha 10

- $473 + 186 + 289 = 948$.
 $946 + 98 + 697 = 1.741$.
 $83 + 597 + 387 = 1.067$.
 $526 + 849 + 797 = 2.172$.

- $6.403 - 206 = 6.197$.
 $7.224 - 305 = 6.919$.
 $8.204 - 197 = 8.007$.
 $4.301 - 509 = 3.792$.
- $432 \times 4 = 1.728$.
 $564 \times 6 = 3.384$.
 $1.542 \times 8 = 12.336$.
 $2.357 \times 9 = 21.213$.
- $2.492 + 5.678 = 8.170$.
 $1.592 - 759 = 833$.
 $4.926 + 7.296 = 12.222$.
 $6.024 - 3.819 = 2.205$.
 $7.100 - 985 = 6.115$.
 $725 + 6.854 = 7.579$.

- $12 \times 5 = 60$.
 $24 \times 3 = 72$.
 $31 \times 2 = 62$.
 $93 \times 3 = 279$.
 $56 \times 5 = 280$.
 $42 \times 7 = 294$.
 $85 \times 5 = 425$.
 $13 \times 9 = 117$.
 $68 \times 4 = 272$.
 $50 \times 2 = 100$.
 $26 \times 6 = 156$.
 $21 \times 8 = 168$.

- 325; 975; 825; 1.650; 1.675.

Ficha 11

- $4.393 + 1.787 + 3.648 = 9.828$.
 $3.260 - 899 = 2.361$.
 $8.651 + 2.499 + 3.614 = 14.764$.
 $5.382 - 1.957 = 3.425$.
- $128 \times 3 = 384$.
 $497 \times 2 = 994$.
 $237 \times 4 = 948$.
 $116 \times 8 = 928$.
 $116 \times 6 = 696$.
 $231 \times 7 = 1.617$.
 $106 \times 9 = 954$.
 $125 \times 5 = 625$.
- $574 - 293 = 281$.
 $524 - 347 = 177$.

$$634 - 196 = 438.$$

$$923 - 798 = 125.$$

$$692 - 125 = 567.$$

$$431 - 89 = 342.$$

$$905 - 280 = 625.$$

$$281 - 153 = 128.$$

- 27; 36, 45; 54; 63; 72; 81.
280; 272; 264; 256; 248; 240; 232; 224
432; 2.592; 15.552; 93.312.

Ficha 12

- $3.760 + 864 + 359 = 4.983.$
 $7.497 + 6.668 + 779 = 14.944.$
 $6.232 + 4.225 + 8.262 = 18.719.$
 $2.398 + 1.028 + 832 = 4.258.$
- $3.020 - 1.808 = 1.212.$
 $4.720 - 375 = 4.345.$
 $1.567 - 638 = 929.$
 $6.542 - 1.796 = 4.746.$
- $714 \times 7 = 4.998.$
 $245 \times 6 = 1.470.$
 $709 \times 5 = 3.545.$
 $519 \times 4 = 2.076.$
 $377 \times 6 = 2.262.$
 $427 \times 8 = 3.416.$
 $198 \times 7 = 1.386.$
 $638 \times 3 = 1.914.$
- $493 + 2.185 + 29 = 2.707.$
 $9.200 - 956 = 8.244.$
 $1.546 \times 7 = 10.822.$

Ficha 13

- $3 \times 5 = 15.$
 $3 \times 3 = 9.$
 $3 \times 6 = 18.$
 $6 \times 4 = 24.$
 $6 \times 7 = 42.$
 $6 \times 9 = 54.$
 $5 \times 4 = 20.$
 $5 \times 7 = 35.$
 $5 \times 8 = 40.$
 $7 \times 2 = 14.$
 $7 \times 4 = 28.$
 $7 \times 7 = 49.$

| | 6 | 4 | 3 | 5 | 8 | 7 | 9 | 10 | 0 |
|-----|----|----|----|----|----|----|----|----|---|
| × 4 | 24 | 16 | 12 | 20 | 32 | 28 | 36 | 40 | 0 |
| × 6 | 36 | 24 | 18 | 30 | 48 | 42 | 54 | 60 | 0 |
| × 5 | 30 | 20 | 15 | 25 | 40 | 35 | 45 | 50 | 0 |
| × 7 | 42 | 28 | 21 | 35 | 56 | 49 | 63 | 70 | 0 |
| × 8 | 48 | 32 | 24 | 40 | 64 | 56 | 72 | 80 | 0 |
| × 2 | 12 | 8 | 6 | 10 | 16 | 14 | 18 | 20 | 0 |

- $12 : 6 \blacktriangleright$ cociente: 2.
 $27 : 3 \blacktriangleright$ cociente: 9.
 $72 : 8 \blacktriangleright$ cociente: 9.
 $54 : 9 \blacktriangleright$ cociente: 6.
 $49 : 7 \blacktriangleright$ cociente: 7.
 $32 : 4 \blacktriangleright$ cociente: 8.
 $18 : 2 \blacktriangleright$ cociente: 9.
 $40 : 5 \blacktriangleright$ cociente: 8.
- $30 : 5 \blacktriangleright$ cociente: 6.
 $36 : 4 \blacktriangleright$ cociente: 9.
 $42 : 7 \blacktriangleright$ cociente: 6.

Ficha 14

- $52 : 4 \blacktriangleright$ cociente: 13.
 $72 : 6 \blacktriangleright$ cociente: 12.
 $28 : 2 \blacktriangleright$ cociente: 14.
 $88 : 8 \blacktriangleright$ cociente: 11.
 $50 : 5 \blacktriangleright$ cociente: 10.
 $84 : 7 \blacktriangleright$ cociente: 12.
 $39 : 3 \blacktriangleright$ cociente: 13.
 $75 : 5 \blacktriangleright$ cociente: 15.
 $68 : 4 \blacktriangleright$ cociente: 17.
 $96 : 8 \blacktriangleright$ cociente: 12.
 $78 : 6 \blacktriangleright$ cociente: 13.
 $91 : 7 \blacktriangleright$ cociente: 13.
- $86 : 7 \blacktriangleright$ cociente: 12; resto: 2.
 $49 : 3 \blacktriangleright$ cociente: 16; resto: 1.
 $38 : 2 \blacktriangleright$ cociente: 19.
 $47 : 4 \blacktriangleright$ cociente: 11; resto: 3.
 $63 : 4 \blacktriangleright$ cociente: 15; resto: 3.
 $56 : 3 \blacktriangleright$ cociente: 18; resto: 2.
 $84 : 7 \blacktriangleright$ cociente: 12.
 $96 : 2 \blacktriangleright$ cociente: 48.
Hay que rodear: $38 : 2$; $84 : 7$; $96 : 2$.
- $30 : 6 \blacktriangleright$ cociente: 5.
 $29 : 2 \blacktriangleright$ cociente: 14; resto: 1.
 $94 : 3 \blacktriangleright$ cociente: 31; resto: 1.

Ficha 15

- $30 : 5 \blacktriangleright$ cociente: 6.
 $63 : 9 \blacktriangleright$ cociente: 7.
 $28 : 7 \blacktriangleright$ cociente: 4.
 $18 : 2 \blacktriangleright$ cociente: 9.
 $72 : 8 \blacktriangleright$ cociente: 9.
 $12 : 2 \blacktriangleright$ cociente: 6.
 $54 : 6 \blacktriangleright$ cociente: 9.
 $42 : 7 \blacktriangleright$ cociente: 6.
 $20 : 4 \blacktriangleright$ cociente: 5.
 $24 : 3 \blacktriangleright$ cociente: 8.
 $48 : 6 \blacktriangleright$ cociente: 8.
 $27 : 3 \blacktriangleright$ cociente: 9.
- $125 : 2 \blacktriangleright$ cociente: 62; resto: 1.
 $522 : 6 \blacktriangleright$ cociente: 87.
 $396 : 9 \blacktriangleright$ cociente: 40.
 $642 : 7 \blacktriangleright$ cociente: 91; resto: 5
 $472 : 6 \blacktriangleright$ cociente: 78; resto: 4.
 $448 : 8 \blacktriangleright$ cociente: 56.
 $720 : 4 \blacktriangleright$ cociente: 180.
 $881 : 9 \blacktriangleright$ cociente: 97; resto: 8
- $403 : 5 \blacktriangleright$ cociente: 80; resto: 3.
 $376 : 4 \blacktriangleright$ cociente: 94.
 $814 : 7 \blacktriangleright$ cociente: 116; resto: 2.
 $504 : 8 \blacktriangleright$ cociente: 63.

Ficha 16

- $606 : 6 \blacktriangleright$ cociente: 101.
 $910 : 3 \blacktriangleright$ cociente: 303; resto: 1.
 $803 : 4 \blacktriangleright$ cociente: 200; resto: 3.
 $524 : 5 \blacktriangleright$ cociente: 104; resto: 4.
 $611 : 2 \blacktriangleright$ cociente: 305; resto: 1.
 $242 : 3 \blacktriangleright$ cociente: 80; resto: 2.
 $722 : 8 \blacktriangleright$ cociente: 90; resto: 2.
 $124 : 6 \blacktriangleright$ cociente: 20; resto: 4.
 $210 : 3 \blacktriangleright$ cociente: 70.
 $564 : 7 \blacktriangleright$ cociente: 80; resto: 4.
 $403 : 2 \blacktriangleright$ cociente: 201; resto: 1.
 $903 : 5 \blacktriangleright$ cociente: 180; resto: 3.
- $62 : 3 \blacktriangleright$ cociente: 20; resto: 2.
 $83 : 4 \blacktriangleright$ cociente: 20; resto: 3.
 $54 : 5 \blacktriangleright$ cociente: 10; resto: 4.
- $327 : 6 \blacktriangleright$ cociente: 54; resto: 3.
 $54 \times 6 + 3 = 327$

- $539 : 5 \blacktriangleright$ cociente: 107; resto: 4.
 $107 \times 5 + 4 = 539$.
- $407 : 9 \blacktriangleright$ cociente: 45; resto: 2.
 $45 \times 9 + 2 = 407$.

Ficha 17

- $42 : 7 \blacktriangleright$ cociente: 6.
 $976 : 8 \blacktriangleright$ cociente: 122.
 $483 : 3 \blacktriangleright$ cociente: 161.
 $632 : 8 \blacktriangleright$ cociente: 79.
 $742 : 3 \blacktriangleright$ cociente: 247; resto: 1.
 $58 : 4 \blacktriangleright$ cociente: 14; resto: 2.
 $675 : 5 \blacktriangleright$ cociente: 135.
 $253 : 6 \blacktriangleright$ cociente: 42; resto: 1.
 $249 : 3 \blacktriangleright$ cociente: 83.
 $587 : 9 \blacktriangleright$ cociente: 65; resto: 2.
 $79 : 7 \blacktriangleright$ cociente: 11; resto: 2.
 $346 : 3 \blacktriangleright$ cociente: 115; resto: 1.
 $791 : 7 \blacktriangleright$ cociente: 113.
 $256 : 2 \blacktriangleright$ cociente: 128.
 $362 : 8 \blacktriangleright$ cociente: 45; resto: 2.
 $357 : 5 \blacktriangleright$ cociente: 71; resto: 2
- 105.
79.
67.
- 224; 112; 56; 28; 14; 7.
243; 81; 27; 9; 3.
64; 16; 4.

Ficha 18

- $3421 + 659 + 359 = 4.439$.
 $7.321 + 2.520 + 293 = 10.134$.
 $1.237 + 918 + 1.796 = 3.951$.
 $3.456 + 873 + 1.237 = 5.566$.
- $1.804 - 713 = 1.091$.
 $3.513 - 1.319 = 2.194$.
 $2.176 - 1.781 = 395$.
 $5.878 - 2.113 = 3.765$.
- $321 \times 3 = 963$.
 $612 \times 4 = 2.448$.
 $673 \times 3 = 2.019$.
 $658 \times 8 = 5.264$.
 $684 \times 9 = 6.156$.
 $308 \times 6 = 1.848$.

$$829 \times 2 = 1.658.$$

$$670 \times 6 = 4.020.$$

$$732 \times 3 = 2.196.$$

$$426 \times 4 = 1.704.$$

$$812 \times 7 = 5.684.$$

$$235 \times 5 = 1.175.$$

- $128 : 2 \blacktriangleright$ cociente: 64.
 $439 : 3 \blacktriangleright$ cociente: 146; resto: 1.
 $735 : 5 \blacktriangleright$ cociente: 147.
 $924 : 7 \blacktriangleright$ cociente: 132.
- 861; 836; 1.672; 418; 500.

Ficha 19

- $275 + 3.908 + 698 = 4.881$.
 $6.506 - 2.794 = 3.712$.
 $8.314 - 7.006 = 1.308$.
 $4.765 + 3.921 = 8.686$.
- $217 \times 4 = 868$.
 $571 \times 6 = 3.426$.
 $209 \times 7 = 1.463$.
 $423 \times 3 = 1.269$.
 $498 \times 2 = 996$.
 $234 \times 9 = 2.106$.
 $379 \times 8 = 3.032$.
 $637 \times 5 = 3.185$.
- $45 : 6 \blacktriangleright$ cociente: 7; resto: 3.
 $61 : 7 \blacktriangleright$ cociente: 8; resto: 5.
 $70 : 9 \blacktriangleright$ cociente: 7; resto: 7.
 $47 : 5 \blacktriangleright$ cociente: 9; resto: 2.
 $48 : 6 \blacktriangleright$ cociente: 8.
 $72 : 8 \blacktriangleright$ cociente: 9.
 $49 : 7 \blacktriangleright$ cociente: 7.
 $54 : 9 \blacktriangleright$ cociente: 6.
- 72; 288; 48; 12; 60; 10.
7; 56; 28; 4; 16; 2.

Ficha 20

- $8.235 + 742 + 1.254 = 10.231$.
 $924 + 1.852 + 4.337 = 7.113$.
 $3.425 + 272 + 5.614 = 9.311$.
 $472 + 5.207 + 3.432 = 9.111$.

- $7.429 - 2.537 = 4.892$.

$$8.032 - 7.912 = 120.$$

$$1.214 - 725 = 489.$$

$$1.299 - 100 = 1.199.$$

- $6.312 \times 4 = 25.248$.
 $1.705 \times 9 = 15.345$.
 $9.838 \times 3 = 29.514$.
- $8.327 : 4 \blacktriangleright$ cociente: 2.081; resto: 3.
 $2.597 : 7 \blacktriangleright$ cociente: 371.
 $4.542 : 8 \blacktriangleright$ cociente: 567; resto: 6.

Problemas

Ficha 1

- $178 + 245 = 423$.
- $127 + 76 = 203$.

Ficha 2

- $34 + 15 + 17 = 66$.
- $87 + 91 + 125 = 303$.

Ficha 3

- $2.750 - 1.340 = 1.410$
- $3.489 - 2.576 = 913$.

Ficha 4

- $12.780 - 8.990 = 3.790$.
- $1.067 - 888 = 179$.

Ficha 5

- $88 + 136 = 224$.
- $623 - 345 = 278$.

Ficha 6

- $1.234 + 789 + 543 = 2.566$.
- $4.532 - 3.200 = 1.332$.

Ficha 7

- $21 \times 8 = 168$.
- $110 \times 5 = 550$.

Ficha 8

- $37 \times 2 = 74$.
- $32 \times 3 = 96$.

Ficha 9

- $896 \times 6 = 5.376$.
- $138 \times 5 = 690$.

Ficha 10

- $73 + 34 = 107$.
 $107 \times 8 = 856$.
- $30 \times 2 = 60$.
 $60 - 7 = 53$.

Ficha 11

- $129 \times 4 = 516$.
 $516 - 342 = 174$.
- $234 + 145 = 379$.
 $379 \times 5 = 1.895$.

Ficha 12

- $189 \times 2 = 378$.
 $378 + 65 = 443$.
- $479 \times 6 = 2.874$.
 $2.874 - 735 = 2.139$.

Ficha 13

- $232 \times 6 = 1.392$.
- $16 \times 8 = 128$.

Ficha 14

- $15 : 3 \blacktriangleright$ cociente: 5.
- $24 : 4 \blacktriangleright$ cociente: 6.

Ficha 15

- $12 : 3 \blacktriangleright$ cociente: 4.
- $48 : 6 \blacktriangleright$ cociente: 8.

Ficha 16

- $684 : 6 \blacktriangleright$ cociente: 114.
- $88 : 7 \blacktriangleright$ cociente: 12; resto: 4.

Ficha 17

- $125 : 5 \blacktriangleright$ cociente: 25.
- $244 : 4 \blacktriangleright$ cociente: 61.

Ficha 18

- $735 : 7 \blacktriangleright$ cociente: 105.
- $160 : 8 \blacktriangleright$ cociente: 20.

Ficha 19

- $255 : 5 \blacktriangleright$ cociente: 51.
- $344 : 4 \blacktriangleright$ cociente: 86.

Ficha 20

- $87 + 51 = 138$.
 $138 : 2 \blacktriangleright$ cociente: 69.
- $100 - 25 = 75$.
 $75 : 5 \blacktriangleright$ cociente: 15.

Ficha 21

- $65 + 84 = 149$.
 $275 - 149 = 126$.
- $9 \times 9 = 81$.
 $81 + 47 = 128$.

Ficha 22

- $255 : 3 \blacktriangleright$ cociente: 85.
- $95 + 57 = 152$.
 $152 : 8 \blacktriangleright$ cociente: 19.

Ficha 23

- $4 \times 100 = 400$.
 $400 + 8 = 408$ cm.
- $2 \times 1.000 = 2.000$ m.
 $2.000 + 5.000 = 2.500$.

Ficha 24

- $600 : 5 \blacktriangleright$ cociente: 120.
- $4 \times 3 = 12$.
 $12 + 2 = 14$.

Ficha 25

- $365 \times 4 = 1.460$.
 $1.460 - 20 = 1.440$.
- $18 : 15$.

Soluciones 4.º de Primaria

Operaciones

Ficha 1

- $398 + 425 = 425 + 398 = 823$.
 $1.019 + 4.317 = 4.317 + 1.019 = 5.336$.
 $5.399 + 2.847 = 2.847 + 5.399 = 8.246$.
 $3.786 + 586 = 586 + 3.786 = 4.372$.
 $452 + 28 = 28 + 452 = 480$.
 $281 + 936 = 936 + 281 = 1.217$.
 $497 + 700 = 700 + 497 = 1.197$.
 $536 + 384 = 384 + 536 = 920$.
- $(752 + 348) + 61 = 752 + (348 + 61) = 1.161$.
 $(3.864 + 56) + 937 = 3.864 + (56 + 937) = 4.857$.
 $493 + (38 + 526) = (493 + 38) + 526 = 1.057$.
 $304 + (672 + 8.195) = (304 + 672) + 8.195 = 9.171$.
- $52 + (16 + 30) = 98$.
 $(52 + 16) + 30 = 98$.
 $93 + (70 + 8) = 171$.
 $(93 + 70) + 8 = 171$.
 $250 + (27 + 11) = 288$.
 $(250 + 27) + 11 = 288$.
- $899 + 5 + 2.255 = 3.159$.
 $2.255 + 899 + 5 = 3.159$.
 $5 + 2.255 + 899 = 3.159$.

Ficha 2

- $55 - 35 - 13; 20 - 13 = 7$.
 $96 + 26 - 90; 122 - 90 = 32$.
 $30 + 27 - 24; 57 - 24 = 33$.
 $29 + 16 - 13; 45 - 13 = 32$.
 $85 + 46 + 44 = 131 + 44 = 175$.
 $49 + 26 - 4; 75 - 4 = 71$.
 $100 - 50 - 20; 50 - 20 = 30$.
 $145 - 37 - 26; 108 - 26 = 82$.
 $56 - 10 + 1; 46 + 1 = 47$.
 $90 + 76 - 11; 166 - 11 = 155$.
- $599 - 475 = 124$.
 $320 - 85 = 235$.
 $856 - 277 = 579$.
 $427 - 75 = 352$.
 $329 + 496 = 825$.
 $451 + 521 = 972$.

$$621 + 194 = 815.$$
$$792 + 108 = 900.$$

Ficha 3

- $64 + (51 - 21) = 64 + 30 = 94$.
 $63 + (71 - 31) = 63 + 40 = 103$.
 $33 + (56 - 27) = 33 + 29 = 62$.
 $75 + (92 - 18) = 75 + 74 = 149$.
- $30 - (15 + 7) = 30 - 22 = 8$.
 $57 - (38 + 14) = 57 - 52 = 5$.
 $50 - (26 + 9) = 50 - 35 = 15$.
 $62 - (32 + 8) = 62 - 40 = 22$.
- $9 - 4 + 5 = 5 + 5 = 10$.
 $8 + (5 - 4) = 8 + 1 = 9$.
 $17 - (11 + 3) = 17 - 14 = 3$.
 $26 - 14 + 4 = 12 + 4 = 16$.
- R. M.
 $43 + 60 - 29 = 74$.
 $60 - 43 + 29 = 46$.
 $214 - 63 + 375 = 526$.
 $375 - 214 + 63 = 224$.

Ficha 4

- $432 \times 4 = 1.728$.
 $723 \times 5 = 3.615$.
 $907 \times 6 = 5.442$.
 $620 \times 8 = 4.960$.
 $684 \times 3 = 2.052$.
 $394 \times 9 = 3.546$.
 $902 \times 7 = 6.314$.
 $785 \times 5 = 3.925$.
 $675 \times 7 = 4.725$.
 $409 \times 6 = 2.454$.
 $563 \times 2 = 1.126$.
 $380 \times 8 = 3.040$.
- $8.356 \times 5 = 41.780$.
 $5.927 \times 6 = 35.562$.
 $7.321 \times 4 = 29.284$.
 $4.867 \times 3 = 14.601$.
 $4.251 \times 7 = 29.757$.
 $1.907 \times 5 = 9.535$.
 $3.276 \times 2 = 6.552$.
 $6.075 \times 3 = 18.225$.

- $4.723 \times 6 = 28.338.$
 $583 \times 5 = 2.915.$
 $3.456 \times 9 = 31.104.$

Ficha 5

- $5 \times 3 = 3 \times 5 = 15.$
 $4 \times 9 = 9 \times 4 = 36.$
 $4 \times 7 = 7 \times 4 = 28.$
 $5 \times 6 = 6 \times 5 = 30.$
 $4 \times 3 = 3 \times 4 = 12.$
 $2 \times 5 = 5 \times 2 = 10.$
 $8 \times 4 = 4 \times 8 = 32.$
 $9 \times 6 = 6 \times 9 = 54.$
- $(6 \times 5) \times 7 = 30 \times 7 = 210.$
 $(7 \times 10) \times 2 = 70 \times 2 = 140.$
 $10 \times (9 \times 8) = 10 \times 72 = 720.$
 $5 \times (10 \times 9) = 5 \times 90 = 450.$
 $8 \times (5 \times 3) = 8 \times 15 = 120.$
- $(4 \times 9) \times 2 = 36 \times 2 = 72.$
 $(2 \times 7) \times 10 = 14 \times 10 = 140.$
 $6 \times (2 \times 5) = 6 \times 10 = 60.$
 $6 \times (8 \times 5) = 6 \times 40 = 240.$
 $(2 \times 3) \times 5 = 6 \times 5 = 30.$
 $(10 \times 4) \times 7 = 40 \times 7 = 280.$
- $4 \times 2; 2 \times 4.$
 $5 \times 2; 2 \times 5.$

Ficha 6

- $675 \times 7 = 4.725.$
 $409 \times 6 = 2.454.$
 $563 \times 2 = 1.126.$
 $380 \times 8 = 3.040.$
 $49 \times 36 = 1.764.$
 $57 \times 48 = 2.736.$
 $54 \times 29 = 1.566.$
 $73 \times 25 = 1.825.$
 $248 \times 24 = 5.952.$
 $256 \times 35 = 8.960.$
 $476 \times 25 = 11.900.$
 $582 \times 65 = 37.830.$
 $1.632 \times 44 = 71.808.$
 $2.532 \times 23 = 58.236.$
 $1.342 \times 72 = 96.624.$
 $2.453 \times 20 = 49.060.$

- $35 \times 42 = 1.470.$
 $428 \times 24 = 10.272.$
 $1.248 \times 45 = 56.160.$
- 56; 156; 780; 390; 1.170.
178; 712; 178; 1.424; 356.

Ficha 7

- $319 \times 3 = 957.$
 $960 \times 6 = 5.760.$
 $223 \times 5 = 1.115.$
 $564 \times 7 = 3.948.$
 $632 \times 4 = 2.528.$
 $212 \times 2 = 424.$
 $454 \times 8 = 3.632.$
 $386 \times 9 = 3.474.$
- $1.524 \times 5 = 7.620.$
 $3.670 \times 7 = 25.690.$
 $1.221 \times 3 = 3.663.$
 $4.352 \times 8 = 34.816.$
- $81 \times 25 = 2.025.$
 $34 \times 12 = 408.$
 $63 \times 17 = 1.071.$
 $48 \times 53 = 2.544.$
 $54 \times 18 = 972.$
 $1.082 \times 51 = 55.182.$
 $3.872 \times 22 = 85.184.$
 $4.203 \times 28 = 117.684.$
 $2.765 \times 72 = 199.080.$
 $3.694 \times 43 = 158.842.$
- $1.453 \times 52 = 75.556.$
 $2.629 \times 34 = 89.386.$
 $3.514 \times 56 = 196.784.$

Ficha 8

- $825 \times 125 = 103.125.$
 $663 \times 507 = 336.141.$
 $308 \times 147 = 45.276.$
 $1.243 \times 380 = 472.340.$
 $2.050 \times 400 = 820.000.$
 $4.213 \times 268 = 1.129.084.$
 $1.543 \times 478 = 737.554.$
 $6.653 \times 354 = 2.355.162.$
 $537 \times 329 = 176.673.$
 $284 \times 602 = 170.968.$

$$442 \times 248 = 109.616.$$

$$348 \times 564 = 196.272.$$

- $436 \times 274 = 119.464.$

$$371 \times 423 = 156.933.$$

$$687 \times 356 = 244.572.$$

- $243 \times 126 = 30.618.$

$$243 \times 38 = 9.234.$$

$$126 \times 38 = 4.788.$$

Ficha 9

- $632 \times 3 = 1.896.$

$$438 \times 5 = 2.190.$$

$$630 \times 6 = 3.780.$$

$$321 \times 2 = 642.$$

$$576 \times 9 = 5.184.$$

$$326 \times 8 = 2.608.$$

$$744 \times 7 = 5.208.$$

$$659 \times 6 = 3.954.$$

- $249 \times 26 = 6.474.$

$$358 \times 37 = 13.246.$$

$$462 \times 48 = 22.176.$$

$$573 \times 59 = 33.807.$$

$$1.684 \times 37 = 62.308.$$

$$2.873 \times 92 = 264.316.$$

$$3.289 \times 67 = 220.363.$$

$$4.584 \times 45 = 206.280.$$

- $392 \times 196 = 76.832.$

$$722 \times 541 = 390.602.$$

$$585 \times 378 = 221.130.$$

$$634 \times 279 = 176.886.$$

$$1.529 \times 232 = 354.728.$$

$$2.763 \times 451 = 1.246.113.$$

$$3.841 \times 613 = 2.354.533.$$

$$5.790 \times 732 = 4.238.280.$$

Ficha 10

- $563 + 328 + 199 = 1.090.$

$$854 + 346 + 721 = 1.921.$$

$$567 + 85 + 394 = 1.046.$$

$$876 + 91 + 458 = 1.425.$$

- $5.579 - 405 = 5.174; 405 + 5.174 = 5.579.$

$$1.435 - 389 = 1.046; 389 + 1.046 = 1.435.$$

$$6.216 - 697 = 5.519; 697 + 5.519 = 6.216.$$

$$4.839 - 206 = 4.633; 206 + 4.633 = 4.839.$$

- $487 \times 25 = 12.175.$

$$382 \times 34 = 12.988.$$

$$829 \times 71 = 58.859.$$

$$498 \times 48 = 23.904.$$

$$1.273 \times 23 = 29.279.$$

$$3.467 \times 62 = 214.954.$$

$$2.641 \times 81 = 213.921.$$

$$5.146 \times 92 = 473.432.$$

- $2 \times (4 + 7) = 2 \times 4 + 2 \times 7 = 8 + 14 = 22.$

$$4 \times (5 + 9) = 4 \times 5 + 4 \times 9 = 20 + 36 = 56.$$

$$6 \times (9 - 4) = 6 \times 9 - 6 \times 4 = 54 - 24 = 30.$$

$$8 \times (8 - 2) = 8 \times 8 - 8 \times 2 = 64 - 16 = 48.$$

Ficha 11

- $54.536 + 39.728 = 94.264.$

$$84.719 + 8.907 = 93.626.$$

$$72.728 + 48.874 = 121.602.$$

$$24.857 + 9.560 = 34.417.$$

- $89.750 - 26.715 = 63.035.$

$$41.029 - 27.073 = 13.956.$$

$$70.000 - 9.875 = 60.125.$$

$$43.715 - 29.262 = 14.453.$$

- $20.927 \times 4 = 83.708.$

$$89.547 \times 3 = 268.641.$$

$$54.687 \times 6 = 328.122.$$

$$63.387 \times 7 = 443.709.$$

- $203 \times 3 = 609.$

$$9.076 \times 2 = 18.152.$$

$$495 \times 4 = 1.980.$$

$$1.249 \times 5 = 6.245.$$

- $32.850 - 5.704 = 27.146.$

$$2.999 + 60.093 = 63.092.$$

$$83.609 \times 46 = 3.846.014.$$

Ficha 12

- $32 : 8 \blacktriangleright$ cociente: 4.
 $45 : 9 \blacktriangleright$ cociente: 5.
 $15 : 5 \blacktriangleright$ cociente: 3.
 $24 : 6 \blacktriangleright$ cociente: 4.
 $28 : 2 \blacktriangleright$ cociente: 14.
 $45 : 3 \blacktriangleright$ cociente: 15.
 $84 : 7 \blacktriangleright$ cociente: 12.
 $44 : 4 \blacktriangleright$ cociente: 11.
 $30 : 5 \blacktriangleright$ cociente: 6.
 $18 : 2 \blacktriangleright$ cociente: 9.
 $36 : 9 \blacktriangleright$ cociente: 4.
 $72 : 8 \blacktriangleright$ cociente: 9.
- $19 : 2 \blacktriangleright$ cociente: 9; resto: 1 \blacktriangleright Entera.
 $25 : 6 \blacktriangleright$ cociente: 4; resto: 1 \blacktriangleright Entera.
 $10 : 3 \blacktriangleright$ cociente: 3; resto: 1 \blacktriangleright Entera.
 $7 : 2 \blacktriangleright$ cociente: 3; resto: 1 \blacktriangleright Entera.
 $57 : 8 \blacktriangleright$ cociente: 7; resto: 1 \blacktriangleright Entera.
 $37 : 9 \blacktriangleright$ cociente: 4; resto: 1 \blacktriangleright Entera.
- $924 : 7 \blacktriangleright$ cociente: 132.
 $153 : 3 \blacktriangleright$ cociente: 51.
 $216 : 4 \blacktriangleright$ cociente: 54.
 $225 : 9 \blacktriangleright$ cociente: 25.
 $173 : 5 \blacktriangleright$ cociente: 34; resto: 3.
 $649 : 7 \blacktriangleright$ cociente: 92; resto: 5.
 $931 : 6 \blacktriangleright$ cociente: 155; resto: 1.
 $457 : 8 \blacktriangleright$ cociente: 57; resto: 1.
 $3.259 : 9 \blacktriangleright$ cociente: 362; resto: 1.
 $2.604 : 4 \blacktriangleright$ cociente: 651.
 $1.056 : 8 \blacktriangleright$ cociente: 132.
 $6.854 : 7 \blacktriangleright$ cociente: 979; resto: 1.

Ficha 13

- $3.384 : 6 \blacktriangleright$ cociente: 564.
 $564 \times 6 = 3.384$.
 $4.271 : 7 \blacktriangleright$ cociente: 610; resto: 1.
 $610 \times 7 + 1 = 4.271$.
 $8.979 : 8 \blacktriangleright$ cociente: 1.122; resto: 3.
 $1.122 \times 8 + 3 = 8.979$.
 $5.149 : 4 \blacktriangleright$ cociente: 1.287; resto: 1.
 $1.287 \times 4 + 1 = 5.149$.
 $6.261 : 5 \blacktriangleright$ cociente: 1.252; resto: 1.
 $1.252 \times 5 + 1 = 6.261$.
 $2.585 : 3 \blacktriangleright$ cociente: 861; resto: 2.
 $861 \times 3 + 2 = 2.585$.

- $2.842 : 2 \blacktriangleright$ cociente: 1.421.
 $1.519 : 7 \blacktriangleright$ cociente: 217.

Ficha 14

- $510 : 5 \blacktriangleright$ cociente: 102.
 $660 : 6 \blacktriangleright$ cociente: 110.
 $280 : 4 \blacktriangleright$ cociente: 70.
 $140 : 7 \blacktriangleright$ cociente: 20.
 $240 : 8 \blacktriangleright$ cociente: 30.
 $180 : 3 \blacktriangleright$ cociente: 60.
 $972 : 9 \blacktriangleright$ cociente: 108.
 $912 : 3 \blacktriangleright$ cociente: 304.
- $1.421 : 7 \blacktriangleright$ cociente: 203.
 $203 \times 7 = 1.421$.
 $3.619 : 6 \blacktriangleright$ cociente: 603; resto: 1.
 $603 \times 6 + 1 = 3.619$.
 $1.836 : 9 \blacktriangleright$ cociente: 204.
 $204 \times 9 = 1.836$.
 $2.822 : 4 \blacktriangleright$ cociente: 705; resto: 2.
 $705 \times 4 + 2 = 2.822$.
 $1.027 : 5 \blacktriangleright$ cociente: 205; resto: 2.
 $205 \times 5 + 2 = 1.027$.
 $1.820 : 3 \blacktriangleright$ cociente: 606; resto: 2.
 $606 \times 3 + 2 = 1.820$.
 $6.334 : 8 \blacktriangleright$ cociente: 791; resto: 6.
 $791 \times 8 + 6 = 6.334$.
 $1.580 : 3 \blacktriangleright$ cociente: 526; resto: 2.
 $526 \times 3 + 2 = 1.580$.
- $606 : 3 \blacktriangleright$ cociente: 202.
 $202 \times 3 = 606$.
 $1.808 : 2 \blacktriangleright$ cociente: 904.
 $904 \times 2 = 1.808$.
- 300; 150; 15; 375; 125.
360; 36; 324; 1.944; 3.888.

Ficha 15

- $127 : 31 \blacktriangleright$ cociente: 4; resto: 3.
 $426 : 53 \blacktriangleright$ cociente: 8; resto: 2.
 $534 : 62 \blacktriangleright$ cociente: 8; resto: 38.
 $433 : 57 \blacktriangleright$ cociente: 7; resto: 34.
 $228 : 67 \blacktriangleright$ cociente: 3; resto: 27.
 $115 : 25 \blacktriangleright$ cociente: 4; resto: 15.
 $258 : 74 \blacktriangleright$ cociente: 3; resto: 36.
 $793 : 91 \blacktriangleright$ cociente: 8; resto: 65.

- 25.395 : 45 ► cociente: 564; resto: 15.
2.453 : 75 ► cociente: 32; resto: 53.
37.255 : 96 ► cociente: 388; resto: 7.
2.289 : 67 ► cociente: 34; resto: 11.
5.876 : 91 ► cociente: 64; resto: 52.
24.978 : 37 ► cociente: 675; resto: 3.

Ficha 16

- 85 : 25 ► cociente: 3; resto: 10.
78 : 15 ► cociente: 5; resto: 3.
94 : 14 ► cociente: 6; resto: 10.
56 : 12 ► cociente: 4; resto: 8.
93 : 37 ► cociente: 2; resto: 19.
45 : 21 ► cociente: 2; resto: 3.
38 : 18 ► cociente: 2; resto: 2.
74 : 26 ► cociente: 2; resto: 22.
- 768 : 25 ► cociente: 30; resto: 18.
963 : 38 ► cociente: 25; resto: 13.
5.429 : 37 ► cociente: 146; resto: 27.
4.527 : 18 ► cociente: 251; resto: 9.
42.120 : 45 ► cociente: 936.
34.298 : 36 ► cociente: 952; resto: 26.

Ficha 17

- 63 : 7 = 9 ► 189 : 21 = 9.
45 : 9 = 5 ► 90 : 18 = 5.
56 : 8 = 7 ► 224 : 32 = 7.
- 18 : 2 = 9 ► 9 : 1 = 9.
40 : 8 = 5 ► 10 : 2 = 5.
24 : 6 = 4 ► 8 : 2 = 4.
- 24 : 4 = 6 ► 48 : 4 = 12.
36 : 9 = 4 ► 108 : 9 = 12.
72 : 8 = 9 ► 216 : 8 = 27.
36 : 6 = 6 ► 18 : 3 = 6.
48 : 8 = 6 ► 24 : 4 = 6.
72 : 9 = 8 ► 24 : 3 = 8.
- 8.000 : 1.000 = 8.
630 : 70 = 9.
3.600 : 40 = 90.
45.000 : 500 = 90.
300 : 100 = 3.
5.600 : 800 = 7.
42.000 : 60 = 700.
27.000 : 3.000 = 9.

Ficha 18

- Respuesta gráfica (R. G.).
- R. G.
- $\frac{3}{4} < \frac{5}{4}$.
 $\frac{5}{3} > \frac{1}{3}$.
 $\frac{2}{8} < \frac{6}{8}$.
 $\frac{10}{9} > \frac{6}{9}$.
 $\frac{3}{2} > \frac{1}{2}$.
 $\frac{4}{6} < \frac{8}{6}$.
 $\frac{2}{7} > \frac{1}{7}$.
 $\frac{5}{5} > \frac{3}{5}$.
- $\frac{1}{4}$.
 $\frac{2}{4}$.
 $\frac{5}{8}$.
- $\frac{1}{4} < \frac{1}{3}$.
 $\frac{3}{7} > \frac{3}{9}$.
 $\frac{4}{6} > \frac{4}{8}$.
 $\frac{6}{8} < \frac{6}{7}$.
 $\frac{2}{5} < \frac{2}{3}$.
 $\frac{5}{8} < \frac{5}{3}$.
 $\frac{2}{7} > \frac{2}{9}$.
 $\frac{7}{9} < \frac{7}{6}$.

Ficha 19

- $\frac{3}{4}$ de 80 = $80 : 4 \times 3 = 60$.
 $\frac{7}{10}$ de 40 = $40 : 10 \times 7 = 28$.
 $\frac{1}{2}$ de 60 = $60 : 2 \times 1 = 30$.
 $\frac{5}{6}$ de 300 = $300 : 6 \times 5 = 250$.
 $\frac{2}{4}$ de 400 = $400 : 4 \times 2 = 200$.
 $\frac{2}{5}$ de 200 = $200 : 5 \times 2 = 80$.
- $\frac{3}{5}$ de 2.325 = $2.325 : 5 \times 3 = 1.395$.
 $\frac{4}{6}$ de 3.618 = $3.618 : 6 \times 4 = 2.412$.
 $\frac{2}{4}$ de 1.888 = $1.888 : 4 \times 2 = 944$.
 $\frac{5}{7}$ de 3.941 = $3.941 : 7 \times 5 = 2.815$.
- De rojo: = 20 bolas.
De verde: 25 bolas.
De azul: = 10 bolas.
De amarillo: 45 bolas.

Ficha 20

- 3 décimas ► $\frac{3}{10}$.
5 décimas ► $\frac{5}{10}$.
8 décimas ► $\frac{8}{10}$.

- 0,5 ► cinco décimas.
0,3 ► tres décimas.
0,6 ► seis décimas.
- $\frac{9}{10}$.
 $\frac{4}{10}$.
 $\frac{8}{10}$.
 $\frac{2}{10}$.
 $\frac{6}{10}$.
 $\frac{7}{10}$.
- De rojo: 3 partes.
De azul: 2 partes.
De amarillo: 4 partes.

Problemas

Ficha 1

- $879 + 564 + 115 = 1.558$.
- $978 + 1.312 + 546 = 2.836$.

Ficha 2

- $1.769 - 675 = 1.094$.
- $3.456 - 1.790 = 1.666$.

Ficha 3

- $1.345 + 2.276 = 3.621$.
- $4.567 - 1.678 = 2.889$.

Ficha 4

- $2.457 + 436 = 2.893$.
 $7.686 - 2.893 = 4.793$.
- $1.345 + 2.673 + 459 = 4.477$.
 $4.477 - 278 = 4.199$.

Ficha 5

- $279 \times 6 = 1.674$.
- $119 \times 4 = 476$.

Ficha 6

- $298 \times 12 = 3.576$.
- $289 \times 24 = 6.936$.

Ficha 7

- $25 + 75 = 100$.
 $100 \times 9 = 900$.
- $352 \times 12 = 4.224$.
 $4.224 - 524 = 3.700$.

Ficha 8

- $252 : 6$ ► cociente: 42.
- $448 : 4$ ► cociente: 112.

Ficha 9

- $255 : 8$ ► cociente: 31; resto: 7.
- $360 : 8$ ► cociente: 45.

Ficha 10

- $721 : 7$ ► cociente: 103.
- $432 : 4$ ► cociente: 108.

Ficha 11

- $2.976 : 12$ ► cociente: 248.
- $875 : 25$ ► cociente: 35.

Ficha 12

- $169 : 23$ ► cociente: 7; resto: 8.
- $12.672 : 32$ ► cociente: 396.

Ficha 13

- $137 + 238 = 375$.
 $375 : 75 = 5$.
- $952 - 472 = 480$.
 $480 : 16$ ► cociente: 30.

Ficha 14

- $217 + 95 = 312$.
 $312 : 26$ ► cociente: 12.
- $5.453 - 629 = 4.824$.
 $4.824 : 12$ ► cociente: 402.

Ficha 15

- $624 : 78$ ► cociente: 8.
- $132 \times 35 = 4.620$.

Ficha 16

- $1.439 + 79 + 237 = 1.755$.
- $2.200 : 21$ ► cociente: 104; resto: 16.

Ficha 17

- $4.456 - 1.764 = 2.692$.
- $776 : 97$ ► cociente: 8.

Ficha 18

- $91 + 68 + 39 = 198$.
 $280 - 198 = 82$.
- $2.735 - 289 = 2.446$.
 $2.446 + 549 = 2.995$.

Ficha 19

- $730 - 250 = 480$.
 $480 : 6$ ► cociente: 80.
- $30 \times 3 = 90$.
 $90 : 6$ ► cociente: 15.

Ficha 20

- A las 6:30.
- A las 4:30.

Ficha 21

- 7 horas.
- A las 8:30.

Ficha 22

- $\frac{3}{5}$ de 80 = $80 : 5 \times 3 = 48$.
- $\frac{2}{8}$ de 1.200 = $1.200 : 8 \times 2 = 300$.

Ficha 23

- $42 \times 1.000 = 42.000$; $42.000 + 195 = 42.195$.
- 5 km y 90 m = 5.090 m.
 $4.000 + 5.090 = 9.090$.

Ficha 24

- $15 + 6 + 3 = 24$.
 $24 \times 100 = 2.400$.
 $2.000 + 600 + 400 = 3.400$ cl.
- $250 \text{ g} + 500 \text{ g} + 250 \text{ g} = 1.000 \text{ g}$.
 $1.000 : 1.000 = 1$ kg.
 $1 + 3 + 2 + 1 = 7$ kg.

